

# 2009년 초등학교 4학년 교과학습 진단평가

## 사 회

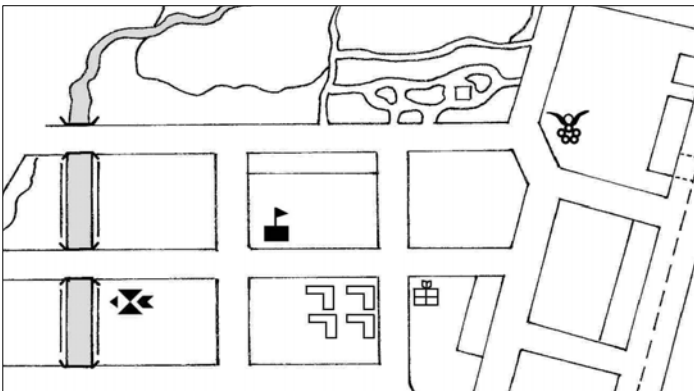
( ) 초등학교 4학년 ( ) 반 ( ) 번 이름 ( )

- ※ 문제지 5면에 30개의 문항이 모두 있는지 확인하시오.
- ※ 문제지에 학교명, 반, 번호, 이름을 정확히 쓰시오.
- ※ ( ) 안에 답을 명확히 쓰시오.

1. 나침반으로 방향을 조사할 때 바늘의 빨간 부분이 가리키는 쪽은 어디입니까? ( )

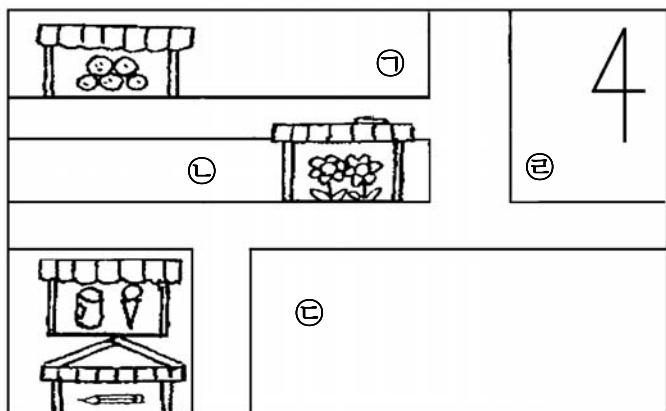
- ① 동쪽                      ② 서쪽
- ③ 남쪽                      ④ 북쪽

2. 지도에 나타난 마을의 모습에서 볼 수 있는 기호는 어느 것입니까? ( )



- ① 병원                      ② 은행
- ③ 우체국                      ④ 과수원

3. 경찰서는 꽃집의 동쪽에 있습니다. 지도에서 경찰서의 위치로 알맞은 곳은 어느 곳입니까? ( )



- ① ㉠                      ② ㉡
- ③ ㉢                      ④ ㉣

4. 고장에서 사람이 많이 모이는 곳의 특징으로 가장 알맞은 것은 어느 것입니까? ( )

- ① 상점이 적다.                      ② 큰 건물이 없다.
- ③ 길의 너비가 좁다.                      ④ 교통이 편리하다.

5. (가)와 (나) 고장의 특징에 대해 옳게 설명한 것은 어느 것입니까? ( )

(가)

(나)



- ① (가)고장은 논밭이 많다.
- ② (가)고장은 반듯한 도로가 많다.
- ③ (나)고장은 공장이 많다.
- ④ (나)고장은 주택이 많다.

6. 지도의 고장에서 주로 많이 생산되는 상품은 어느 것입니까? ( )



- ① 버섯, 약초, 꿀                      ② 토마토, 쌀, 당근
- ③ 새우, 조기, 다시마                      ④ 자동차, 과자, 학용품

7. 옛날에 자연을 이용한 모습으로 알맞은 것은 어느 것입니까? ..... ( )

- ① 바다에 굴 양식장을 만들었다.
- ② 강물을 막아 댐을 건설하였다.
- ③ 넓은 들에 아파트를 많이 지었다.
- ④ 산에서 나무를 베어 펄프로 사용하였다.

8. <보기>는 하은이의 사회 숙제입니다. 조사한 내용의 제목으로 가장 알맞은 것은 어느 것입니까? ( )

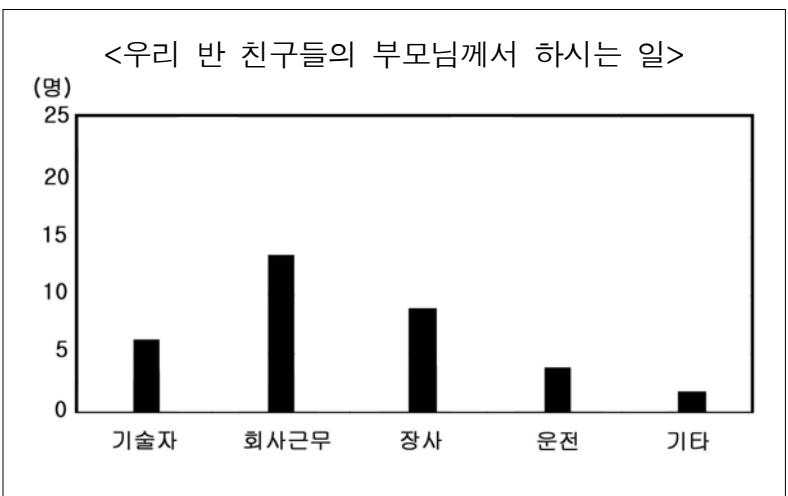
<보기>

제목: \_\_\_\_\_

- 스키장 주변에 인공 눈구름을 만들어 스키를 탄다.
- 인공 태양으로 날씨가 따뜻하여 겨울에도 물놀이를 한다.
- 태풍을 물리치는 인공위성 덕분에 여름철 태풍피해가 줄어든다.

- ① 인공위성을 만드는 방법
- ② 스키장에서의 즐거운 시간
- ③ 미래의 계절에 따른 생활 모습
- ④ 계절에 따라 변하는 생활 모습

[9~10] 다음 물음에 답하시오.



9. 위의 도표를 옳게 설명한 것은 어느 것입니까? ..... ( )

- ① 가로선은 사람 수를 표시했다.
- ② 세로선은 직업의 종류를 적었다.
- ③ 직업별로 사람이 많고 적음을 한 눈에 알 수 있다.
- ④ 직업별 종사자의 정확한 수를 한 눈에 알 수 있다.

10. 위의 도표는 어느 지역에 있는 학교에서 조사한 내용입니까? ..... ( )

- ① 농촌
- ② 어촌
- ③ 도시
- ④ 산촌

11. 서울에 사는 승호네 가족이 부산에 계신 할아버지 댁에 갈 때 이용할 교통수단으로 알맞지 않은 것은 어느 것입니까? ..... ( )

- ① 기차
- ② 비행기
- ③ 고속버스
- ④ 시내버스

12. 시장에서 이루어지는 일에 대한 설명으로 옳은 것은 어느 것입니까? ..... ( )

- ① 생선은 농산물 시장에서 살 수 있다.
- ② 백화점에서는 물건 값을 잘 깎아야 한다.
- ③ 여러 지역에서 생산된 물건을 살 수 있다.
- ④ 도매 시장 상인들은 소매 시장에서 물건을 사온다.

13. 시장이 위치하기에 가장 좋은 곳을 말한 사람은 누구입니까? ..... ( )

- ① 주성 : 산이 많은 곳이 좋아.
- ② 은희 : 사람이 적은 곳이 좋아.
- ③ 하람 : 교통이 편리한 곳이 좋아.
- ④ 지은 : 경치가 아름다운 곳이 좋아.

14. <보기>에서 원료를 가공하여 제품으로 생산하는 일을 하는 직업끼리 묶은 것은 어느 것입니까? .. ( )

<보기>

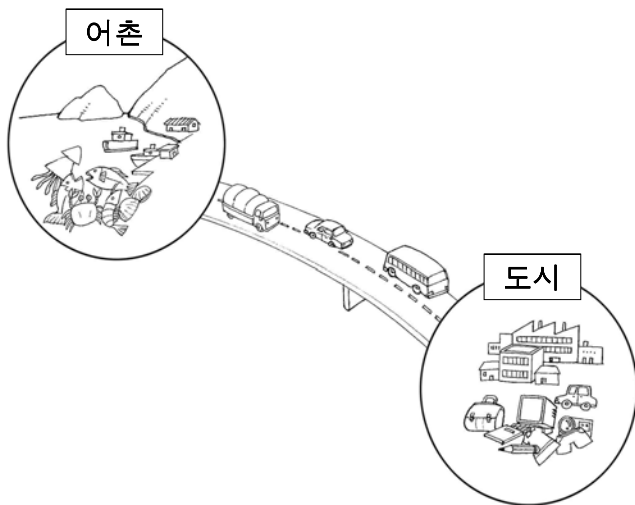
ㄱ. 농부	ㄴ. 선생님
ㄷ. 미용사	ㄹ. 제철공장 근로자
ㅁ. 어부	ㅂ. 김치공장 근로자

- ① ㄱ, ㄹ
- ② ㄱ, ㅁ
- ③ ㄴ, ㄷ
- ④ ㄹ, ㅂ

15. 옛날 사람들의 생활 모습을 조사하기에 가장 알맞은 곳은 어디입니까? ..... ( )

- ① 식물원                      ② 박물관
- ③ 동물원                      ④ 대형할인점

16. 그림을 보고 알 수 있는 이웃 고장과의 관계는 어느 것입니까? ..... ( )



- ① 고장 사이에 도로가 없어서 오고 가기가 힘들다.
- ② 다른 고장에 갈 때는 자가용 승용차로만 갈 수 있다.
- ③ 우리 고장에서 나지 않는 물자를 이웃 고장에서 들여온다.
- ④ 우리 고장과 이웃 고장 사이에 사람의 왕래만 이루어진다.

17. 옛날과 오늘날의 생활 모습에 대해 옳게 말한 사람은 누구입니까? ..... ( )

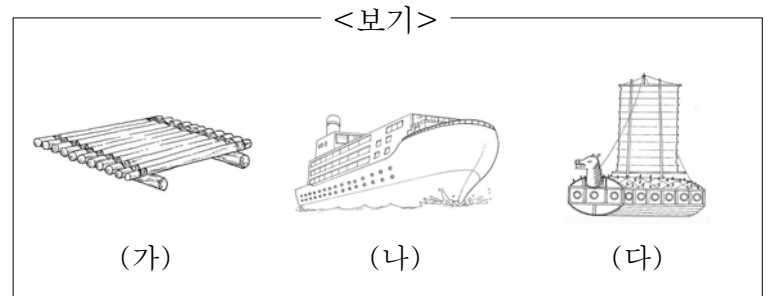
- ① 명재 : 옛날에는 세탁기로 빨래를 했어.
- ② 길용 : 옛날에는 전기밥솥에 밥을 지었어.
- ③ 영진 : 오늘날에는 냉장고에 음식을 보관해.
- ④ 강만 : 오늘날에는 설거지할 때 짚을 이용해.

18. 옛날에 쓰던 물건이 오늘날에도 쓰이는 이유에 대해 옳게 설명한 것은 어느 것입니까? ..... ( )



- ① 옛날에 쓰던 물건은 구하기 쉽다.
- ② 옛날에 쓰던 물건의 모양이 더 좋다.
- ③ 오늘날 쓰는 물건은 사용하기 불편하다.
- ④ 오늘날 쓰는 물건의 단점을 보완하는 데 도움이 된다.

19. 배가 발달한 순서를 <보기>에서 옳게 나열한 것은 어느 것입니까? ..... ( )



- ① (가) - (나) - (다)
- ② (가) - (다) - (나)
- ③ (다) - (가) - (나)
- ④ (다) - (나) - (가)

20. 교통수단의 발달로 사람들의 생활이 어떻게 달라질지에 대해 잘못 말한 사람은 누구입니까? ..... ( )

- ① 정효 : 달나라로 여행을 다녀올 수 있습니다.
- ② 우성 : 공항을 통해 물자 이동이 보다 신속하게 이루어 집니다.
- ③ 건후 : 제주도로 현장 학습을 가기 위해서는 증기로 움직이는 배를 타고 갑니다.
- ④ 동섭 : 비행기를 타고 아침에 미국에 가서 일을 보고 오후에 한국으로 돌아옵니다.

21. 옛날부터 전해 오는 민속놀이로 옳게 묶인 것은 어느 것입니까? ..... ( )

- ① 야구, 씨름                      ② 강강술래, 씨름
- ③ 줄다리기, 농구                ④ 차전놀이, 스케이트

22. 다음에서 설명하고 있는 것은 어느 것입니까?  
..... ( )



옛날부터 전해 오는  
음악의 한 종류로 창  
(소리)과 말, 몸짓을  
섞어 이야기를 엮어  
가는 것을 말한다.

- ① 민요                              ② 속담
- ③ 판소리                          ④ 전래 동요

23. 옛날과 오늘날의 결혼식에서 달라지지 않은 것은 어느 것입니까? ..... ( )

- ① 결혼식 순서                      ② 결혼식 음식
- ③ 사람들의 축하                  ④ 신랑과 신부의 옷차림

24. 고장의 전통 문화 축제를 조사하는 방법으로 알맞지 않은 것은 어느 것입니까? ..... ( )

- ① 축제와 관련된 분들에게 여쭙어 본다.
- ② 다른 나라의 친구에게 전화로 물어본다.
- ③ 고장 신문에서 축제 관련 기사를 찾아본다.
- ④ 고장의 전통 축제 홈페이지를 인터넷에서 찾아본다.

25. 고장의 전통 문화 행사를 발전시키기 위해 가져야 할 태도로 알맞은 것은 어느 것입니까? ..... ( )

- ① 고장의 전통 문화 행사에 관심을 가지고 이어 나가려는 마음을 기른다.
- ② 전통 문화 행사에는 어린이가 참여할 수 없기 때문에 어른이 되어 참여한다.
- ③ 전통 문화 행사는 시끄럽고 위험하기 때문에 행사 기간이 끝날 때까지 조용히 가정에서 지낸다.
- ④ 자기 고장의 전통 문화 행사에만 참여하고 다른 고장의 전통 문화 행사에는 관심을 갖지 않는다.

26. 구청에서 하는 일에 대해 바르게 설명한 것은 어느 것입니까? ..... ( )

- ① 돈을 맡아 주고 빌려 주는 일을 한다.
- ② 더 좋은 학교를 만들기 위해 노력한다.
- ③ 살기 좋은 고장을 만들기 위해 노력한다.
- ④ 화재가 발생했을 때 소방차를 보내 준다.

27. 고장의 여러 기관이 하는 일을 알아보기 위해 공공기관을 방문하여 옳게 활동한 모듬은 어느 모듬입니까?  
..... ( )

- ① 1모듬: 미리 연락하지 않고 찾아갔다.
- ② 2모듬: 필요한 자료는 말없이 가져왔다.
- ③ 3모듬: 역할을 나누어 조사할 내용을 알아보았다.
- ④ 4모듬: 중요한 회의 중이라도 바로 여쭙어 보았다.

28. 깨끗한 고장을 만들기 위한 방법으로 알맞지 않은 것은 어느 것입니까? ..... (            )

- ① 꽃길 만들고 가꾸기
- ② 쓰레기 분리수거하기
- ③ 자기 집 앞 깨끗이 청소하기
- ④ 공원을 없애고 주차장 만들기

29. 밑줄 친 ㉠은 어느 단체입니까? ..... (            )

동형이 아버지께서는 ㉠ 조기 축구회에 참여하여 일요일 아침마다 학교 운동장에서 다른 사람들과 함께 축구를 합니다.

- ① 봉사 단체
- ② 환경 보호 단체
- ③ 체육 활동 단체
- ④ 고장의 발전을 위한 단체

30. 수업 시간에 다음과 같은 활동을 계획하였을 때, 공부할 문제로 알맞은 것은 무엇입니까? ..... (            )

공부할 문제 : \_\_\_\_\_

〈3학년 1반의 활동 계획〉

- 활동 1 - 우리 고장의 현재 모습 발표하기
- 활동 2 - 고장의 앞날에 대해 상상하기
- 활동 3 - 상상한 내용을 다양하게 표현하기

- ① 고장의 공공기관 조사하기
- ② 고장의 문화재 지도 그리기
- ③ 고장에 전해오는 민속놀이 알아보기
- ④ 고장의 미래 모습 상상하여 나타내기

♣ 수고하셨습니다 ♣

모든 문제에 답을 정확히 썼는지 확인하십시오.