

2009년 초등학교 6학년 교과학습 진단평가

사 회

() 초등학교 6학년 () 반 () 번 이름 ()

- ※ 문제지 6면에 30개의 문항이 모두 있는지 확인하십시오.
- ※ 문제지에 학교명, 반, 번호, 이름을 정확히 쓰시오.
- ※ () 안에 답을 명확히 쓰시오.

1. 산간 지역의 특징을 옳게 나타낸 것은 어느 것입니까?
..... ()

- ① 상점과 공공 기관이 밀집해 있다.
- ② 갯벌과 해수욕장을 쉽게 볼 수 있다.
- ③ 목재가 많이 나고 고랭지 채소를 재배한다.
- ④ 농사짓기에 좋은 큰 강과 넓은 평야가 있다.

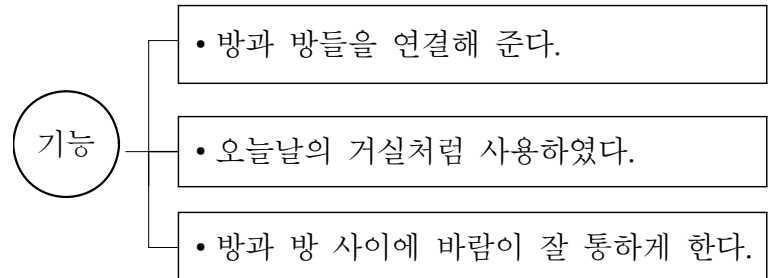
2. 다음 글에 나타난 계절에 하는 일은 어느 것입니까?
..... ()

날이 점점 따뜻해지고 만물이 화창하니
꽃이 활짝 피고 새 소리 다양하다.
대청 앞 쌍제비는 옛집을 찾아오고,
꽃밭에 범나비는 분주히 날고 기니,
벌레도 때를 만나 즐거워함이 사랑스럽다.
한식날 성묘하니 백양나무 새 잎 난다.

- '농가월령가' 중에서 -

- ① 가을걷이를 한다.
- ② 논에 모내기를 한다.
- ③ 계곡에서 물놀이를 한다.
- ④ 얼음판 위에서 팽이치기와 썰매를 탄다.

3. 전통 가옥의 구조에서 아래와 같은 기능을 하는 것은 무엇입니까? ()



- ① 기와
- ② 굴뚝
- ③ 마루
- ④ 온돌

4. 계절에 따른 조상들의 생활 모습에 대해 옳게 설명한 것은 무엇입니까? ()

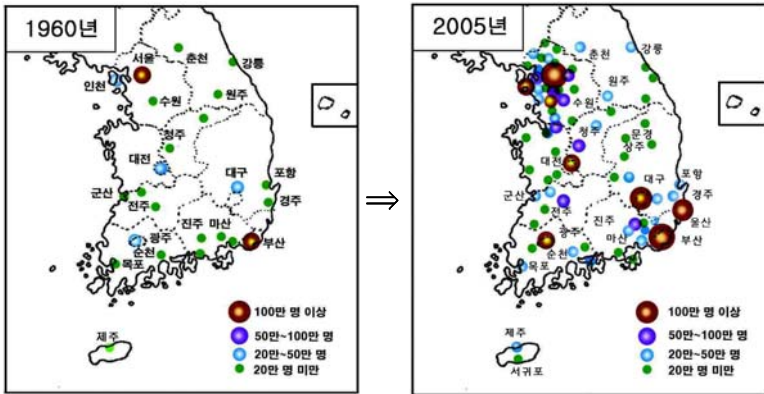
- ① 겨울에는 보신용으로 삼계탕을 먹었다.
- ② 여름에는 숨을 넣은 누비버선을 신었다.
- ③ 추위를 이겨내기 위해 온돌을 사용하였다.
- ④ 겨울에는 삼베나 모시로 만든 옷을 입었다.

5. 조상들이 명절이나 절기마다 먹었던 세시 음식을 옳게 연결한 것은 어느 것입니까? ()

- ① 설날 - 팔죽
- ② 추석 - 송편
- ③ 삼짇날 - 오곡밥
- ④ 정월 대보름 - 떡국

6. 우리나라 도시 발달에 대한 설명으로 옳지 않은 것은 어느 것입니까? ()

<우리나라 도시 발달의 모습>



- ① 도시는 주로 동쪽에 발달해 있다.
- ② 1960년보다 2005년에 인구가 늘었다.
- ③ 1960년보다 2005년에 도시의 수가 늘었다.
- ④ 수도권 지역의 도시 수가 급격히 증가하였다.

7. 다음의 현상은 무엇에 대한 설명입니까? ... ()

도시화와 산업화로 대기를 오염시키는 물질이 많아지고 있습니다. 특히 자동차 수가 점점 늘어나면서 자동차 배기가스가 대기 오염의 주요 원인으로 나타나고 있습니다. 흐린 날과 안개가 낀 날에는 대기 오염 물질의 농도가 높아져서 뿌옇게 보이기도 합니다.

- ① 적조 현상
- ② 스모그 현상
- ③ 사막화 현상
- ④ 방사능 오염

8. 봉수네 고장에서 나타날 수 있는 변화로 가장 알맞은 것은 무엇입니까? ()

봉수네 고장은 20년 전에는 조용한 농촌 마을이었습니다. 그런데 과거 논이었던 곳에 공장이 들어섰습니다. 또한 중요한 도로가 건설되면서 교통의 중심지가 되었습니다. 그 후 다른 지역에서 온 인구가 계속 늘어나면서 지금은 인구가 40만 명이 넘는 큰 도시가 되었습니다.

- ① 인구 증가로 주택 문제가 발생한다.
- ② 농업에 종사하는 사람들이 더욱 늘어난다.
- ③ 자동차 수가 줄어들어 공기가 더욱 맑아진다.
- ④ 젊은 인구가 감소하고 노인 인구가 증가한다.

9. 대화의 내용에 해당되는 시설이 아닌 것은 무엇입니까? ()



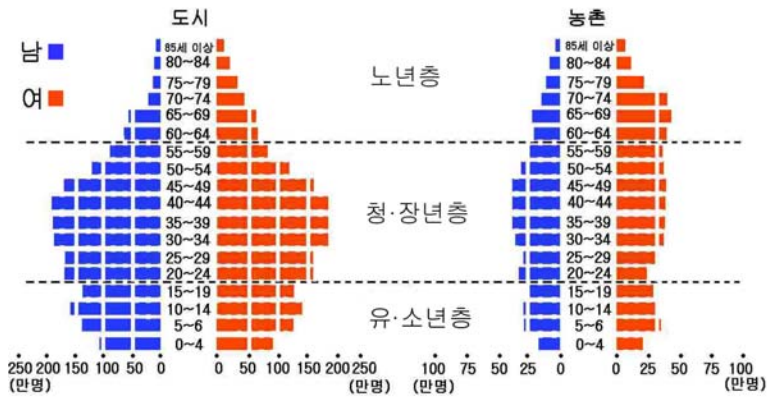
- ① 분노 처리 시설
- ② 하수 처리 시설
- ③ 체육 공원 시설
- ④ 쓰레기 매립 시설

10. 다음 글에 나타난 촌락의 공통적인 특징은 무엇입니까? ()

- 경상남도의 한 농촌에서는 전통적인 소싸움을 ‘소싸움 체험 축제’로 만들어서 수많은 관광객을 유치하였다.
- 강원도에서는 폐광 지역을 개발하여 레저, 스키, 온천, 민속촌, 생태학습장 등으로 탈바꿈하였다. 그리하여 많은 관광 수입을 올리면서 지역 발전에 많은 도움을 주고 있다.

- ① 전자 상거래를 활용하는 촌락
- ② 첨단 공업 도시로 탈바꿈하는 촌락
- ③ 지역의 특성을 살려 발전하는 촌락
- ④ 유기 농산물을 외국에서 수입하는 촌락

11. 다음 그래프를 바르게 설명한 것은 어느 것입니까?
..... ()



- ① 유·소년층 인구는 도시보다 농촌이 더 많다.
- ② 청·장년층 인구는 도시가 농촌보다 더 많다.
- ③ 도시의 경우 노년층의 인구 비율이 가장 높다.
- ④ 농촌의 경우 유·소년층의 인구 비율이 가장 높다.

12. 촌락 지역이 안고 있는 문제점은 어느 것입니까?
..... ()

- ① 농가 인구 증가
- ② 초등학교 수 증가
- ③ 노인 인구 비율의 증가
- ④ 의료, 문화 시설의 증가

13. 일기에 나타난 지역과 가장 관련이 깊은 곳은 어디입니까?
..... ()

2000년 8월 ○○일

올해는 태풍이 자주 온다. 바람이 너무 세고, 비가 많이 내려서 친구들과 수영하기로 한 약속이 취소되었다. 나는 할 수 없이 집에서 방학 숙제를 했다.

아버지께서는 태풍으로 인해 고기잡이를 포기하셨고, 또한 어머니께서도 조개잡이를 하실 수 없었다. 그래서 우리 가족은 오랜만에 다 같이 집에 모여 점심을 먹었다.

- ① ㉠
- ② ㉡
- ③ ㉢
- ④ ㉣

14. 그림과 같은 도시 문제를 해결하기 위한 방법으로 적당하지 않은 것은 무엇입니까? ()



- ① 방음벽 설치하기
- ② 자동차 연료비 인하하기
- ③ 승용차 요일제 참여하기
- ④ 대중교통 수단 이용하기

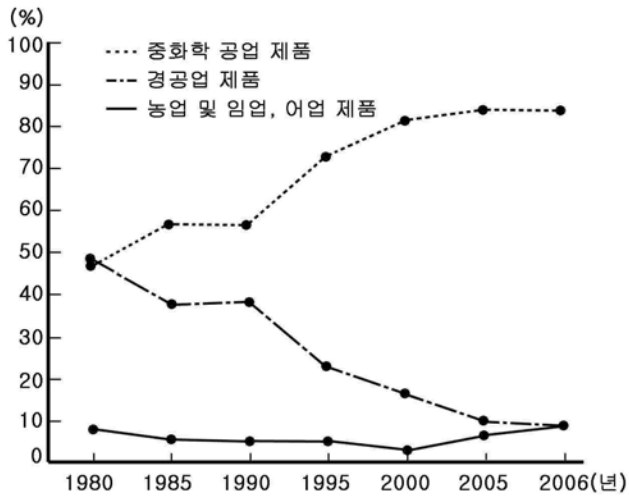
15. 다음 지역에 공장을 건설할 때 나타나는 변화를 잘못 예상한 사람은 누구입니까? ()



- ① 민석: 양식장이 더 많이 늘어 날거야.
- ② 수영: 공장의 폐수로 양식장이 오염될 수 있어.
- ③ 용택: 공장에서 일자리를 얻는 사람들도 생길거야.
- ④ 숙희: 이 지역으로 이사 오는 사람들이 많아질거야.

24. 그래프에 대한 설명으로 알맞은 것은 어느 것입니까?
..... ()

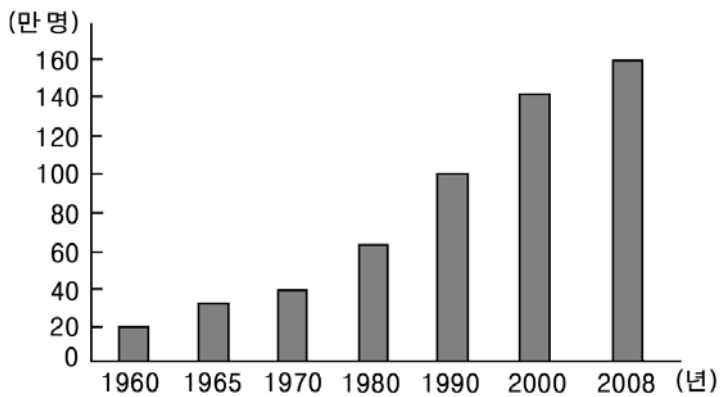
<우리나라 수출 상품의 변화>



- ① 1985년 이후 경공업 제품의 수출이 중화학 공업 제품을 앞질렀다.
- ② 중화학 공업 제품의 수출은 1990년 이후에 많이 늘어났다.
- ③ 2006년에 가장 많이 수출한 상품은 경공업 제품이다.
- ④ 수출 상품 중 농업 및 임업, 어업 제품이 차지하는 비중이 가장 높다.

25. 2009년의 ○○도시 모습을 가장 옳게 예상한 사람은 누구입니까? ()

<○○도시의 인구 수>



- ① 승규: 인구의 수는 계속 줄어들 것이다.
- ② 상미: 빈집이 늘어나고 폐교가 생길 것이다.
- ③ 도영: 아파트와 상업 시설이 늘어날 것이다.
- ④ 정일: 인구 감소로 일손 부족이 나타날 것이다.

26. 다음 글과 같이 현장 체험 학습 계획을 세울 때, 필요한 정보로 적절하지 않은 것은 어느 것입니까?
..... ()

주홍이네 반에서는 며칠 뒤에 덕유산으로 현장 체험 학습을 가기로 하였습니다. 선생님께서는 현장 체험 학습에 필요한 정보를 미리 알아 두어야 한다고 말씀 하셨습니다. 반 친구들은 현장 체험 학습에 필요한 정보를 찾아보기로 하였습니다.

- ① 날씨 정보
- ② 자연 환경
- ③ 주변의 유적지
- ④ 기념품 파는 곳

27. 정보화 사회에서 나타나는 우리 생활의 모습이 아닌 것은 어느 것입니까? ()

- ① 은행에 가야만 예금 및 송금을 할 수 있다.
- ② 집에서 인터넷으로 조사 과제를 해결할 수 있다.
- ③ 역이나 터미널에 가지 않고 차표를 예매할 수 있다.
- ④ 서점에 직접 가지 않고 인터넷으로 책을 구입할 수 있다.

28. 정보화 사회에서 정보를 서로 나누는 까닭으로 알맞지 않은 것은 어느 것입니까? ()

- ① 개인 정보를 알아내기 위해
- ② 다른 사람들에게 도움을 주기 위해
- ③ 관심 분야에 대한 지식과 의견 교환을 위해
- ④ 전자 상거래를 통해 경제적인 이익을 얻기 위해

29. 첨단 기술이 발달하면서 달라질 미래 생활의 모습으로
알맞지 않은 것은 어느 것입니까? ()

- ① 로봇이 집안일을 대신한다.
- ② 수중 도시에서 바다 체험을 한다.
- ③ 자동차 연료로 석유 에너지를 이용한다.
- ④ 동시통역기로 세계 여러 나라 사람과 대화한다.

30. 첨단 기술 제품이 우리 생활에 미치는 영향으로 가장
알맞은 것은 어느 것입니까? ()

- ① 화상 전화 - 얼굴을 볼 수 없어 불편하다.
- ② 컴퓨터 - 아이들의 체력을 강하게 해 준다.
- ③ 로봇 - 인간을 대신하여 위험한 일을 대신해 준다.
- ④ 디지털 카메라 - 찍은 사진은 반드시 인화하여야 볼 수 있다.

♣ 수고하셨습니다 ♣

모든 문제에 답을 정확히 썼는지 확인하십시오.