



2008년도

# 제 5 회 한국사능력검정시험 문제지

국사편찬위원회

성명		수험 번호							
----	--	-------	--	--	--	--	--	--	--

- 자신이 선택한 등급의 문제지인지 확인하시오.
- 문제지에 성명과 수험 번호를 정확히 써넣으시오.
- 답안지에 성명과 수험 번호를 써넣고, 또 수험 번호와 답을 정확히 표시하시오.
- 시험 시간은 60분입니다.

## 선택형

1. 다음은 어느 선사 시대 생활 모습이다. 대화의 내용이 그림에서 표현한 시대와 맞지 않은 것은? [2 점]



2. 우리나라의 건국 이야기 중에서 알에서 나왔다고 전해지는 시조와 나라가 바르게 연결된 것은? [2 점]

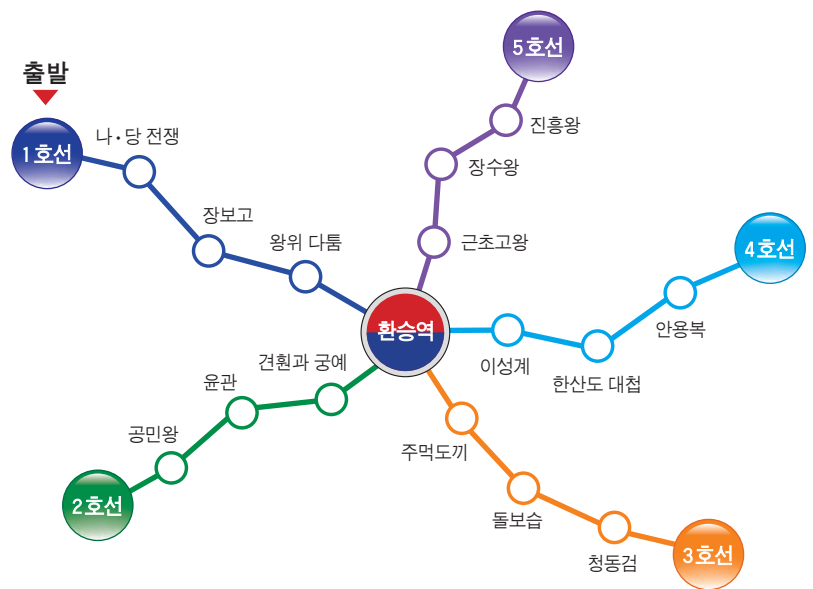
① 주몽 부여	② 온조 백제
③ 박혁거세 신라	④ 단군 고조선

3. 다음 역사 지도에서 (가) 나라에 대한 설명으로 맞지 않은 것은? [2 점]




- ① 하나의 나라를 이루지 못하고 백제에 정복당했다.
- ② 풍부한 철을 바탕으로 뛰어난 철기 문화를 일으켰다.
- ③ 처음에는 수로왕이 세운 나라를 중심으로 힘을 모았다.
- ④ 낙동강 유역에 여러 작은 나라가 독립적으로 성장하였다.

4. 다음 그림은 역사 여행을 할 수 있는 타임머신 철도 노선이다. 1호선을 타고 환승역에 도착하여 바로 이어지는 시대로 여행을 하려면 몇 호선으로 갈아타야 하는가? [3 점]

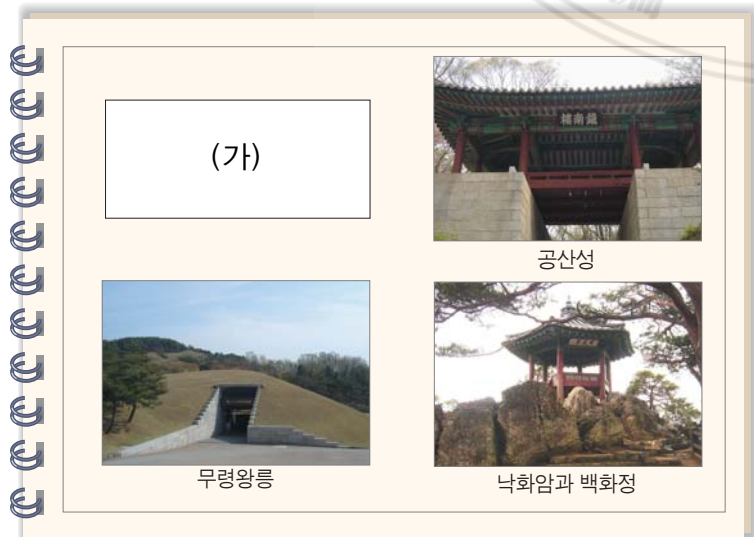


- ① 2호선
- ② 3호선
- ③ 4호선
- ④ 5호선

5. 다음 <보기>의 문화재를 만든 때로부터 가장 먼 시기의 것은? [3 점]



6. 정애는 가족과 함께 다음 지역들을 답사하여 사진첩을 만들었다. (가)에 들어갈 제목으로 알맞은 것은? [3 점]

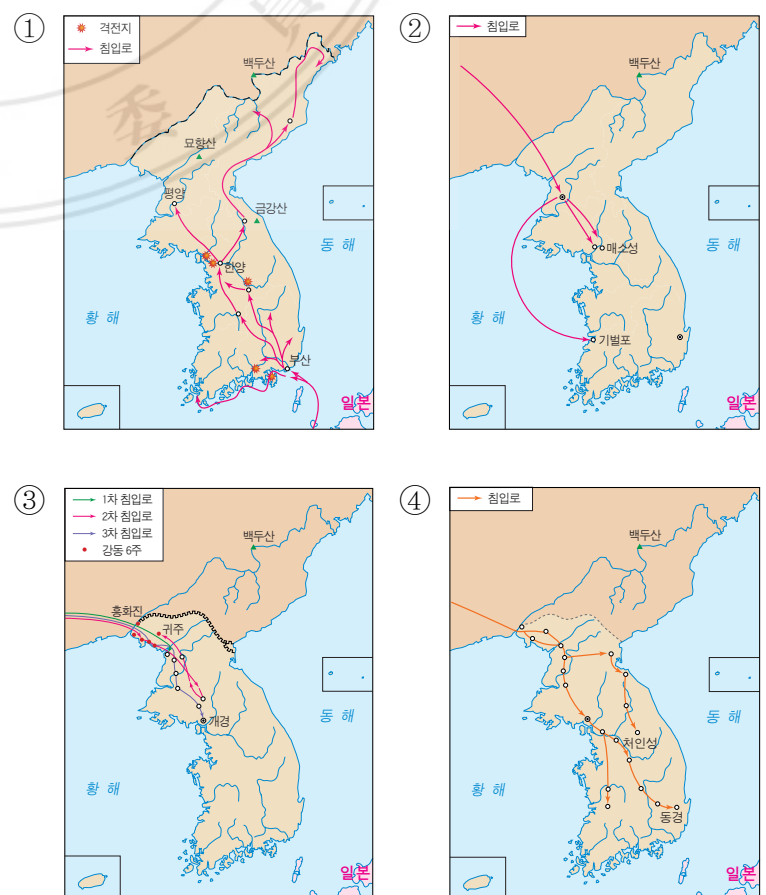


- ① 백제의 도읍지를 찾아서
- ② 신라 멸망의 현장을 찾아서
- ③ 성곽 도시 한양의 이모저모
- ④ 고려 대외 무역의 중심지를 찾아서

7. 다음 사진 중에서 백제의 불상은? [2 점]



8. 다음 중에서 나·당 전쟁을 나타낸 역사 지도는? [2 점]





9. 다음 퍼즐에서 [가로 열쇠]와 [세로 열쇠]에 대한 설명으로 옳지 않은 것은? [3점]

㉠안

시

㉡성

릉

㉢삼

국

사

기

문

탑

[가로 열쇠]

㉠ 양만춘과 백성들이 당나라의 침략을 물리친 성

㉡ 고려 후기 승려 일연이 쓴 우리나라 역사서

[세로 열쇠]

㉢ 사육신 중의 한 사람

㉣ 몽골 침입 때 불타 버린 신라 시대의 탑

- ① ㉠
- ② ㉡
- ③ ㉢
- ④ ㉣

10. 다음은 시대별 우리나라 영토의 변화를 보여 주는 지도이다. 시대 순서에 맞도록 알맞게 배열된 것은? [3점]

(가)

(나)

(다)

(라)

- ① (가) - (나) - (다) - (라)
- ② (나) - (다) - (라) - (가)
- ③ (나) - (라) - (다) - (가)
- ④ (라) - (다) - (가) - (나)

11. 다음은 셋별이가 만든 삼국 시대 연표이다. (가)~(라) 중에서 사건이 잘못 기입된 곳은? [3점]

	300	400	500	600	700
	(가)	(나)	(다)	(라)	
고구려	불교 전래	광개토 대왕의 영토 확장		살수 대전	멸망
백제	불교 전래	웅진 천도	사비 천도		멸망
신라		진흥왕의 영토 확장	불교 공인		삼국 통일

- ① (가)
- ② (나)
- ③ (다)
- ④ (라)

12. 다음은 고려를 침략한 외적을 서희가 외교술로 물리칠 당시의 국제 정세도이다. 지도에 잘못 표기된 나라는? [2점]



- ① ㉠
- ② ㉡
- ③ ㉢
- ④ ㉣

13. 영희는 우리 문화의 우수성을 친구들에게 알리기 위하여 시대별로 미니북을 만들어 정리하기로 하였다. ㉠~㉣ 중에서 사진 옆에 들어갈 내용으로 옳은 것은? [3점]

팔만대장경판과 장경판전

㉠ 통일 신라 시대 목판 기술의 우수성을 알 수 있다.

㉡ 부처의 힘으로 청나라의 침입을 막고자 하였다.

㉢ 글자의 모양이 아름답고 금속 활자 인쇄술의 우수성을 알 수 있다.

㉣ 대장경판의 보존 기술은 세계적으로 인정받고 있다.

- ① ㉠
- ② ㉡
- ③ ㉢
- ④ ㉣

14. 다음은 어느 나라의 멸망 과정을 도미노로 표현한 것이다. (가)에 해당하는 나라는? [3 점]



- ① 통일 신라                      ② 발해
- ③ 고려                            ④ 조선

15. 다음은 도서관에 있는 한국사 서고의 모습이다. 서고에 잘못 꽂혀 있는 책은? [2 점]



- ① ㉠                      ② ㉡
- ③ ㉢                      ④ ㉣

16. 다음의 문화유산을 통해 우리가 얻을 수 있는 교훈은? [3 점]



송례문



직지심체요절

- ① 외국의 문화를 널리 받아들여야 한다.
- ② 전통문화는 현대 문화에 맞게 고쳐 나가야 한다.
- ③ 일반 시민에게 우리의 문화유산을 개방하지 않아야 한다.
- ④ 우리의 문화유산이 파손되거나 해외로 유출되지 않도록 보존해야 한다.

17. 강화도 지역의 역사 체험 주제와 장소가 알맞게 연결되지 않은 것은? [3 점]

① 선사 시대 지도자의 무덤을 찾아서	② 조상들의 별자리 관측 현장을 찾아서
	
③ 병인양요의 전투 현장을 찾아서	④ 신미양요의 격전지를 찾아서
	
정족산성	광성포

18. 조선 시대 서민들이 즐기던 판소리는 열두 마당 중에서 다섯 마당이 전해 내려오고 있다. 다음 고전 이야기 중에서 판소리와 관련이 없는 것은? [2 점]

- ①  춘향전
- ②  견우직녀전
- ③  흥부전
- ④  심청전



19. 다음은 수도 서울에 있는 문화유산들이다. 가장 오래된 곳에서 출발하여 시대순으로 답사를 할 때, 마지막으로 들러야 하는 곳은? [3 점]



- ① 경복궁
- ② 풍납 토성
- ③ 경천사 10층 석탑
- ④ 암사동 선사 유적지

20. 조선 시대에는 오늘날의 주민 등록증에 해당되는 호패가 발급되었다. 다음 중에서 호패에 기재된 내용이 아닌 것은? [1 점]



- ① 성별
- ② 성명
- ③ 나이
- ④ 거주지

21. 요즘 선주는 부모님과 함께 텔레비전 역사극을 즐겨 본다. 다음 역사극이 다루는 시기와 관계가 없는 것은? [3 점]



- ① 자격루를 만든 장영실이 활약하였다.
- ② 여진족을 몰아내고 4군 6진을 설치하였다.
- ③ 나라의 기본 법전인 <경국대전>이 완성되었다.
- ④ 집현전의 기능을 강화하고 훈민정음을 만들었다.

22. 다음은 조선 시대의 과학 발명품에 대한 설명이다. 잘못 연결된 것은? [2 점]

㉠ 물을 이용하여 시간을 재는 기구이다.



양부일구

㉡ 해의 그림자를 활용하여 시각과 절기를 측정하였다.



수표

㉢ 별자리의 움직임에 맞게 돌아가도록 만든 천체 관측 기기이다.



혼천의

㉣ 바람의 방향과 세기를 재는 기구를 세웠던 받침대이다.



풍기대

- ① ㉠
- ② ㉡
- ③ ㉢
- ④ ㉣

23. 호준이는 생일 선물로 ‘불멸의 이순신’이라는 게임을 선물받았다. 호준이가 사용할 수 있는 가장 적절한 전략은? (단, 게임의 규칙은 임진왜란 당시 이순신 장군이 사용했던 전략을 따른다.) [2 점]



- ① 왜군의 함선이 많으므로 물길이 좁고 빠른 바다로 유인한다.
- ② 판옥선을 왜선에 가까이 붙인 후 수군이 직접 건너가 싸운다.
- ③ 왜군에 비해 화포의 위력이 약하므로 최대한 가까운 거리에서 싸운다.
- ④ 좁은 바다에서 유리한 전법인 학익진은 거북선으로만 진을 구성한다.

24. 다음 역사 신문의 (가)에 들어갈 낱말은? [2점]

## 역사신문

(가), 일본인들의 대대적 환영을 받다!

우리 측 사절단이 항구에 들어서니 수많은 왜선들이 마중 나와 환영해 주었다. 우리 측 사절단이 탄 배가 항구에 도착하자 일본인들은 앞 다투어 축하의 인사를 보냈다. 숙소로 도착하자, 셀 수 없이 많은 사람들이 몰려와 우리 사절단 일행의 글을 받아 갔다.

- ① 수신사                      ② 영선사  
③ 연행사                      ④ 통신사

25. 다음 설명에 해당하는 조선 시대의 무기는? [3점]

- 로켓의 원리를 이용하였다.
- 세종 때 개량된 화약 무기이다.
- 대규모의 적을 공격하는 데 활용하였다.

①



조총

②



천자총통

③



신기전

④



투석기

26. 다음 자료의 내용과 가장 어울리는 표어는? [2점]

재물은 샘과 같은 것이다. 퍼내면 차고, 버려두면 말라 버린다. 그러므로 비단옷을 입지 않으면 비단 짜는 사람이 없어지고, 쭈그러진 그릇을 사용하고 좋은 그릇을 찾지 않으면 기술이 망하게 되고, 결국 농사도 황폐해져서 선비, 농민, 수공업자, 상인이 모두 가난해진다.

- <북학의> -

- ① 소비자는 왕이다.                      ② 과소비는 낭비다.  
③ 소비는 미덕이다.                      ④ 절약만이 살 길이다.

27. 다음은 우리나라 역사에 등장하는 여성 인물들이다. 이들의 공통점은? [3점]



논개



윤희순



유관순

- ① 조선 시대의 인물들이다.  
② 일본의 침략에 맞선 사람들이다.  
③ 나라에서 이들을 위해 열녀문을 세웠다.  
④ 글과 그림으로 이름을 떨친 사람들이다.

28. 우리나라 세계 기록 유산을 알아보기 위해 인터넷 검색을 하였다. 다음 중에서 검색 결과로 알맞지 않은 것은? [3점]

통합검색

우리나라 세계 기록 유산은?

검색

①



조선왕조실록

②



훈민정음

③



승정원일기

④



경국대전

29. 다음의 가상 기자 회견에 등장한 역사 인물들과 관련 있는 사건은? [3점]

기 자 : 황성신문에 '시일야방성대곡'을 쓰셨는데요. 이 글을 쓰신 목적은 무엇입니까?

장지연 : 일본의 침략을 규탄하고 친일 대신들을 비판하기 위해서 썼습니다.

기 자 : 민영환 선생님께서는 이 상황을 어떻게 생각하십니까?

민영환 : 이완용 등이 그 일에 찬성하지 않았습니까? 죽음으로써 이 일의 부당함을 알리고자 합니다.

- ① 을미사변                      ② 을사조약  
③ 갑신정변                      ④ 강화도 조약



30. 다음은 조선 시대 어느 항구의 모습을 묘사한 것이다. 일본인들이 밀줄 그은 부분과 같이 행동하게 된 계기는? [2점]

바다에는 일본의 상선이 여러 척 정박해 있고, 거리에는 일본인들이 세운 상점들이 줄지어 서 있다. 많은 일본인과 조선인이 뒤섞여 흥정하는 모습을 항구 여기저기에서 쉽게 찾아볼 수 있다. 일본인과 조선인 사이에 다툼도 많이 발생하지만, 일본인이 처벌받는 경우는 드물다. 항구는 조선의 땅이지만 일본인은 자기네 땅인 듯 생활하고 있다.

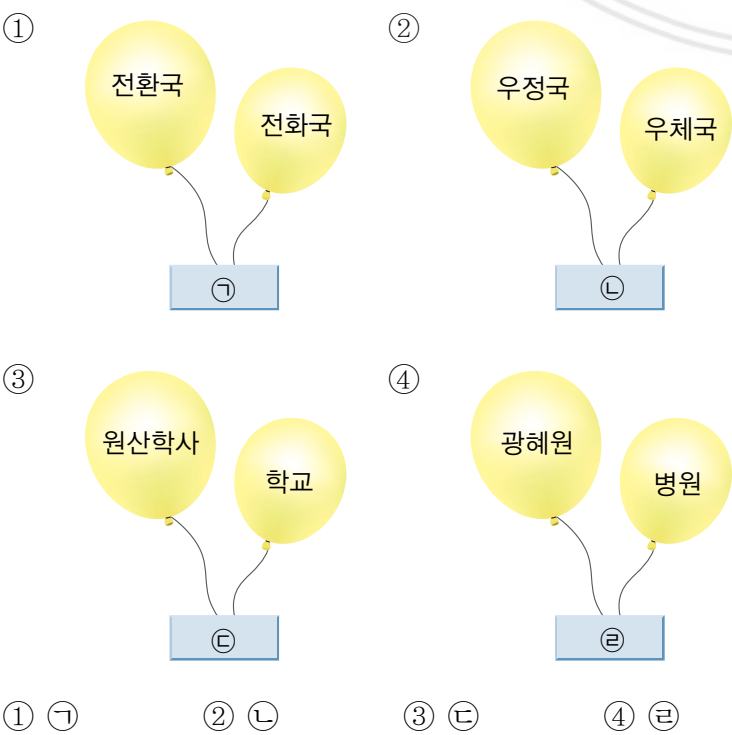
- ① 갑신정변 이후 일본의 세력이 커져서
- ② 임진왜란 이후 무역이 자유롭게 되어서
- ③ 일본의 도움으로 서양 세력을 물리쳐서
- ④ 강화도 조약 이후 일본인의 권리가 높아져서

31. 다음 연표와 관련이 깊은 인물은? [1점]

1896년 4월	독립신문 간행
1896년 7월	독립 협회 결성
1896년 11월	독립문 건립
1898년 3월	만민 공동회 개최

- ① 김구      ② 안중근      ③ 서재필      ④ 김옥균

32. 다음은 개화기에 세워진 근대 기관과 현재 기관을 비교한 그림이다. 성격상 잘못 짝지어진 것은? [3점]



33. 다음은 수영이네 반 아이들이 일제 침략으로부터 나라를 지키기 위하여 활동한 인물들에 대해 토론하고 있는 모습이다. 잘못 말하고 있는 학생은? [3점]



34. 일제 강점기에 독립운동을 했던 인물과 그의 주요 활동이 잘못 짝지어진 역사 인물 카드는? [3점]

①

김좌진

★★★★★★★★

청산리 대첩

②

윤봉길

★★★★★★★★

한인 애국단

③

신채호

★★★★★★★★

물산 장려 운동

④

지청천

★★★★★★★★

한국 광복군

35. 대한민국 임시 정부가 만들어진 계기가 된 역사적 사건은? [1점]

①	②	③	④
1919	1926	1945	1950
3·1 운동	6·10 만세 운동	8·15 광복	6·25 전쟁

36. 다음의 표는 과거 어느 초등학교 가을 운동회 안내문이다. 이 운동회가 열렸던 시기는? [3 점]

○○국민학교 가을 운동회 순서			
순서	학년	경기명	내용
1	5, 6학년	신세기 체조	국민 체조
2	2학년 여	새마을 청소	콩주머니넣기
3	1학년	나는 국군이 좋아요	무용
4	5학년 남	새마을 개미 작전	긴 장대 줄다리기
13	6학년 남	우리는 새마을 역군	장대 잡고 달리기
20	자모회	수출 100억 달러	수출 증대 고기잡기

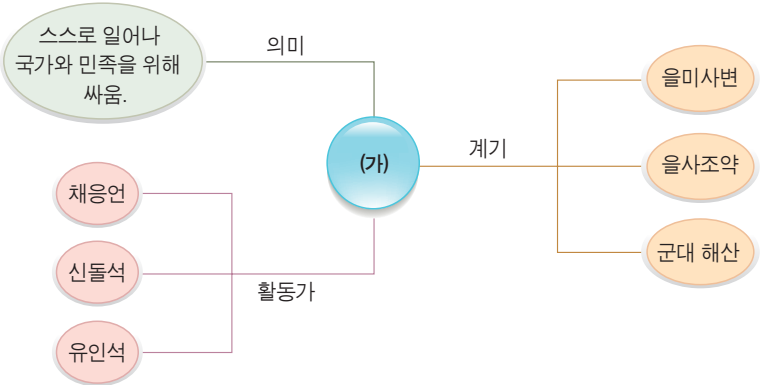
- ① 1940년대
 ② 1950년대
- ③ 1960년대
 ④ 1970년대

37. 현재 우리나라는 대통령을 국민의 손으로 직접 뽑고 있다. 이와 같이 대통령 직선제를 실시하게 된 역사적 사건은? [1 점]

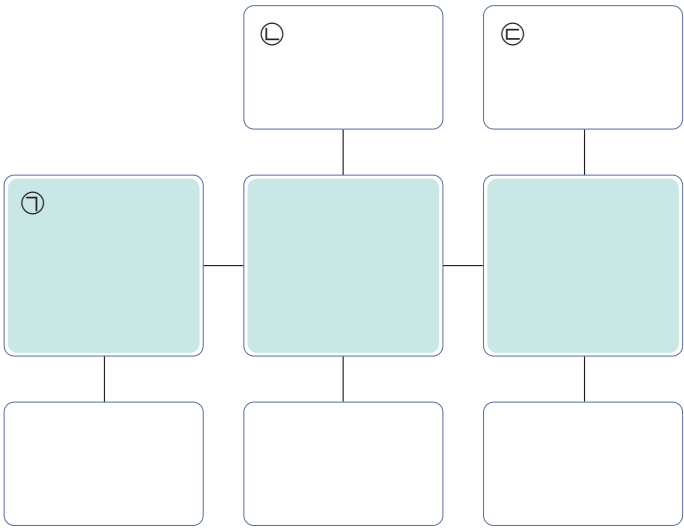
- ① 5·10 총선거
 ② 4·19 혁명
- ③ 5·18 민주화 운동
 ④ 6월 민주 항쟁

서 답 형

38. 다음의 그림과 같이 (가)를 주제로 마인드 맵을 만들었다. (가)에 들어갈 용어를 쓰시오. [3 점]



39. 다음의 이름 퍼즐에서 [세로 열쇠]를 맞추면 색칠된 가로가 완성된다. 해당하는 인물의 이름을 쓰시오. [3 점]



[세로 열쇠]

㉠ : 헤이그 특사로 파견된 사람 중의 한 분

㉡ : 1932년 상하이 홍커우 공원에서 일본군의 주요 인물들에게 폭탄을 던지고 나서 돌아가신 분

㉢ : 평양에 신식 학교인 대성 학교를 세우고 교육 분야에서 애국 계몽 운동을 펼친 인물

[가로 열쇠]

㉠ : 나는 항일 운동을 전개한 ○○○입니다.

40. 다음의 문자 카드 9장을 사용하여 고려와 조선 시대에 있었던 군사 조직의 이름을 만들려고 한다. 뒤집힌 석 장의 카드에 공통적으로 쓰여 있는 글자를 쓰시오. [4 점]

