



2008년도

# 제 4회 한국사능력검정시험 문제지



국사편찬위원회

성명

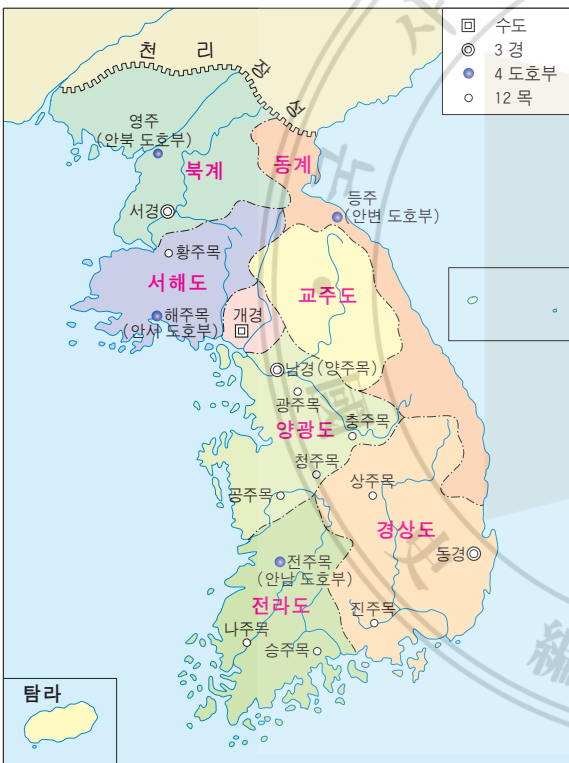
수험 번호

—

- 자신이 선택한 등급의 문제지인지 확인하시오.
- 문제지에 성명과 수험 번호를 정확히 써 넣으시오.
- 답안지에 성명과 수험 번호를 써 넣고, 또 수험 번호와 답을 정확히 표시하시오.
- 시험 시간은 100분입니다.

선 다 형

1. 지도와 같이 행정 구역을 나누어 운영한 시대에 만들어진 문화유산으로 옳은 것은? [2 점]




①



백제 금동 대향로

②



당백전

③



발해의 돌사자상

④



고려청자

⑤



통일 신라의 토옹

2. 다음 자료로 알 수 있는 것을 <보기>에서 고른 것은? [2점]



골품제 사회에서는 같은 신분끼리 혼인하는 것이 원칙이었다. 같은 진골이라도 경주 출신과 지방 소국 왕족의 후예들 사이에는 차별이 있었다. 경주 출신 진골 김춘추는 가야 왕족 후예인 김유신의 누이와 혼인하여 한때 동료 진골 귀족들에게 따돌림을 당하기도 하였다.

— < 보 기 > —

- ㄱ. 관등에 따라 관리의 복색이 달랐다.
- ㄴ. 6두품은 자색의 공복을 입을 수 있었다.
- ㄷ. 4두품은 12등급인 대사까지 오를 수 있었다.
- ㄹ. 김유신은 5등급인 대아찬에는 오를 수 없었다.

① ㄱ, ㄴ

② ㄱ, ㄷ

③ ㄴ, ㄷ

④ ㄴ, ㄹ

⑤ ㄷ, ㄹ

3. 밑줄 그은 ㉠~㉤에 대한 설명으로 옳은 것은? [2 점]

## 통일 신라가 마련한 새 제도

통일 후 신라는 ㉠전제 왕권을 확립하기 위하여 ㉡중앙 정치 기구와 ㉢군사 제도를 정비하였으며, 넓어진 영토를 효과적으로 다스리기 위하여 ㉣지방 통치 조직도 새롭게 마련하고, ㉤귀족들의 경제적 기반을 약화시키는 조치를 취하기도 하였다.

- ① ㉠ - 화백 회의의 기능을 확대하였다.
- ② ㉡ - 왕 밑에 3성 6부를 두었다.
- ③ ㉢ - 중앙군으로 2군 6위를 설치하였다.
- ④ ㉣ - 전국을 8도로 나누어 통치하였다.
- ⑤ ㉤ - 관료전을 지급하고 녹읍을 폐지하였다.

4. 대화의 (가)에 들어갈 내용으로 적절한 것은? [2점]



- ① 쌍성총관부를 공격하여 철령 이북의 땅을 되찾아야 하오.
- ② 요동을 공격하여 고구려의 옛 땅을 되찾아야 하오.
- ③ 여진족을 몰아내고 4군과 6진을 설치해야 하오.
- ④ 강동 6주를 되찾으려면 거란과 담판해야 하오.
- ⑤ 거란족을 쫓아내고 천리장성을 쌓아야 하오.

6. 영희와 철수가 주고받은 문자 메시지에서 (가)에 들어갈 내용으로 적절한 것은? [2점]



- ① 골품 제도가 있었기
- ② 무신을 차별하였기
- ③ 호족의 권한이 강했기
- ④ 성리학을 수용하였기
- ⑤ 귀족이 음서의 특권을 누렸기

5. 사료의 빈칸 (가)에 들어갈 국가에 대한 설명으로 옳은 것은? [2점]

부여씨가 망하고 고씨가 망한 다음에 김씨가 남방을 차지하고, 대씨가 북방을 차지하고는 (가) (이)라 했으니, 이것을 남북국이라 한다. .... 저 대씨가 어떤 사람인가? 바로 고구려 사람이다. 그들이 차지하고 있던 땅은 어떤 땅인가? 바로 고구려 땅이다.

- ① 전국을 9주로 나누고 5개의 소경을 두었다.
- ② 해동성국이라 불릴 정도로 강성한 나라였다.
- ③ 제가 회의에서 나라의 중요한 일을 결정하였다.
- ④ 중국의 남조와 교류하며 세련된 문화를 발전시켰다.
- ⑤ 5세기 말 요동을 포함한 만주 일대를 장악하여 위세를 떨쳤다.

7. 다음은 발굴 조사 보고서의 일부이다. 당시 이 집터에서 살았던 사람들에게서 처음 나타난 모습으로 옳은 것은? [2점]

○○ 발굴 조사 보고서

- 1. 기간 : 19○○. ○. ○. ~ 19○○. ○. ○.
- 2. 장소 : ○○○ 유적지
- 3. 발굴 상황 :

지금까지 조사된 집터는 모두 19기로, 하천에 인접한 낮은 구릉과 야산에 위치하고 있다. 집터는 직사각형이나 원형이며, 화덕을 벽 쪽으로 설치하여 공간 활용의 효율성을 높였다. 한쪽 벽면을 밖으로 돌출시켜 만든 저장 구멍이의 흔적과 주춧돌을 사용한 흔적이 발견되었다. 집터 안에서 불에 탄 쌀과 민무늬 토기 등 다량의 유물들을 발굴하였다.

- ① 옷이나 그물을 만들어 사용하였다.
- ② 주술적 의미를 지닌 예술 활동을 하였다.
- ③ 정치 권력과 경제력을 가진 군장이 등장하였다.
- ④ 삽, 괭이, 낫 같은 철제 농기구들을 사용하였다.
- ⑤ 토기를 사용하여 음식물을 조리하거나 저장하였다.



8. 다음 계획서에 따라 답사할 때 학생들이 볼 수 있는 유물을 <보기>에서 고른 것은? [2 점]

〈답사 계획서〉

1. 주관 : ○○ 중학교 유적 답사반

2. 일시 : 2008년 6월 ○일 ~ 6월 ○일

3. 주제 : 5세기 고구려 변영의 흔적을 찾아서

4. 답사 지역 : 중국 길림성 집안

〈 보 기 〉

ㄱ. 

임신서기석

ㄴ. 

광개토 대왕릉비

ㄷ. 

장군총

ㄹ. 

서산 마애 삼존불

- ① ㄱ, ㄴ    ② ㄱ, ㄷ    ③ ㄴ, ㄷ    ④ ㄴ, ㄹ    ⑤ ㄷ, ㄹ

9. 다음 사료로 알 수 있는 지증왕의 업적으로 옳은 것은? [1점]

여러 신하들이 아뢰기를, “시조가 창업한 이래로 나라 이름이 일정치 않아 …… 신들이 생각하건대, 신(新)은 덕업이 날로 새롭다는 뜻이요, 라(羅)는 사방을 망라한다는 뜻이니, 이것으로 국호를 삼는 것이 좋을 듯합니다. 또 생각하건대, 예부터 국가가 있는 이는 모두 제(帝)나 왕을 칭하였는데 …… 단지 방언으로 칭하여 존호를 정하지 않았습시다. 지금 신들은 한뜻으로 삼가 신라 국왕이란 존호를 올립니다.”라 하니 왕이 이에 따랐다.

— 『삼국사기』 —

〈 보 기 〉

ㄱ. 나라의 이름을 ‘신라’로 정하였다.

ㄴ. 중국을 모방하여 왕을 황제로 불렀다.

ㄷ. 왕호를 ‘마립간’에서 ‘왕’으로 바꾸었다.

ㄹ. 사방으로 영토를 확장하여 한강 유역을 점령하였다.

- ① ㄱ, ㄴ    ② ㄱ, ㄷ    ③ ㄴ, ㄷ    ④ ㄴ, ㄹ    ⑤ ㄷ, ㄹ

10. 선생님의 질문에 대한 학생들의 대답으로 적절한 것은? [2점]

신라가 삼국을 통일한 것은 어떠한 역사적 의의가 있을까요?

〈신라의 삼국 통일〉

나·당 연합군 결성 → 백제 멸망(660) → 고구려 멸망(668) → 나·당 전쟁(매소성 전투, 기벌포 해전) → 삼국 통일 완성(676)

- ① 다수의 말갈족을 피지배층으로 흡수하였습니다.
- ② 신라 혼자 힘으로 통일을 이룩하였습니다.
- ③ 현재와 같은 국경선을 확보할 수 있었습니다.
- ④ 당의 세력을 몰아낸 것은 신라의 자주성을 보여 줍니다.
- ⑤ 고구려에 이어 동북아시아의 패권을 장악하였습니다.

11. 다음 노래와 관련된 나라의 역사를 탐구하는 데 필요한 문화유산으로 옳은 것은? [3점]

거북아 거북아,  
머리를 내어라.  
내어놓지 않으면  
구워서 먹으리.

① 

금관 장식

② 

청동 자루술

③ 

수레 토기

④ 

보상화무늬 벽돌

⑤ 

중원 고구려비

12. 다음 가상 인터뷰의 내용 중에서 옳지 않은 것은? [1점]

기자 : 오늘은 ㉠ 고려를 건국하신 왕건을 모시고 역사 체험의 시간을 가지도록 하겠습니다. 안녕하세요? 나라 이름을 고려라고 정하신 특별한 이유가 있으신가요?

태조 : 예, ㉡ 옛 고구려의 기상과 정신을 계승하고자 정하였소. ㉢ 서경을 북진 정책의 전진 기지로 삼은 것도 그 일면을 보여 주고자 함이오.

기자 : (조심스럽게) 부인이 29명이라고 알고 있습니다만…….

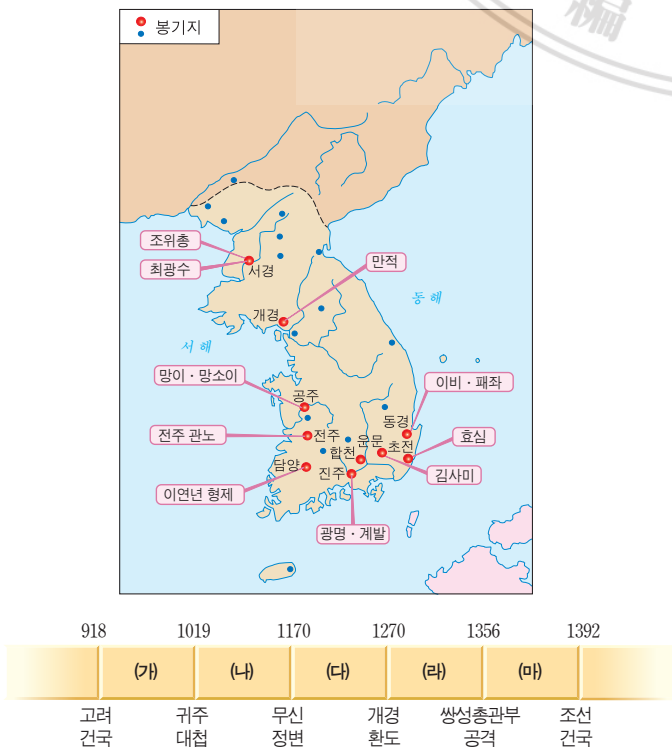
태조 : 사실이오. ㉣ 지방 세력을 포섭하기 위해 호족과 혼인 관계를 맺는 것이 필요하였다오.

기자 : 아, 그러셨군요. 통일 후, 민족 통합 정책은 어떻게 추진하셨나요?

태조 : ㉤ 중앙군의 핵심인 9서당을 편성할 때에 고구려와 백제 사람은 물론이고 말갈족까지 포함하여 민족 융합을 꾀했소.

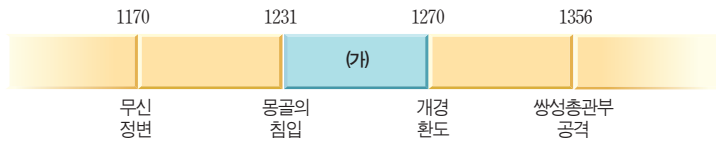
- ① ㉠                      ② ㉡                      ③ ㉢  
④ ㉣                      ⑤ ㉤

13. 지도에 나타난 저항 운동이 일어났던 시기를 연표에서 빠르게 찾은 것은? [2점]



- ① (가)      ② (나)      ③ (다)      ④ (라)      ⑤ (마)

14. 연표의 (가) 시기를 배경으로 극화 수업을 할 때, 등장할 수 있는 인물로 옳은 것을 <보기>에서 고른 것은? [2점]



— < 보 기 > —

ㄱ. 진포에서 외적을 격퇴하는 최무선  
ㄴ. 왕이 되기 위해 반란을 일으키는 이자겸  
ㄷ. 처인성 전투에서 살리타를 사살하는 처인 부곡민  
ㄹ. 부처님의 가르침을 나무판에 새겨 넣고 있는 장인

- ① ㄱ, ㄴ                      ② ㄱ, ㄷ                      ③ ㄴ, ㄷ  
④ ㄴ, ㄹ                      ⑤ ㄷ, ㄹ

15. (가)에 들어갈 신문 기사 제목으로 가장 적절한 것은? [1점]

역사 신문

1300년 0월 0일

(가)

어제 조정에서는 본래 양민이었던 돌석이를 강제로 자신의 노비로 만든 관리 김○○와 불법적으로 만석이의 토지를 빼앗은 관리 이○○를 붙잡아 처벌하였다. 그리하여 돌석이는 다시 양민이 되었고, 만석이는 자신의 토지를 되찾을 수 있어 기뻐하였다. 호부에서는 점차 나라의 조세 수입이 늘어나는 결과를 가져올 것이라고 하였다.

- ○○ 기자

- ① 과전법 시행, 그 효과는?  
② 노비안검법 시행, 이대로 좋은가?  
③ 문벌 귀족의 독주, 더 이상은 안 돼!  
④ 전민변정도감의 설치, 백성들은 환영!  
⑤ 공명첩 발행, 신분제의 동요를 가져올 것인가?

16. 다음 글의 밑줄 그은 ‘이 사건’에 해당하는 것은? [1점]

…… 이 사건은 실제로 낭가와 불교 양가 대 유교의 싸움이며, 국풍파 대 한학파의 싸움이며, 독립당 대 사대당의 싸움이며, 진취 사상 대 보수 사상의 싸움이니, …… 이것을 어찌 일천년래 제일대 사건이라 하지 아니하랴?

- 신채호 -

- ① 무신정변                      ② 귀주 대첩  
③ 위화도 회군                      ④ 이자겸의 난  
⑤ 서경 천도 운동

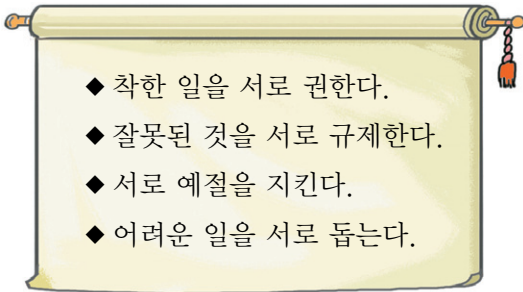


17. 조선 후기에 다음과 같은 논의가 이루어질 수 있었던 사회적 배경으로 옳지 않은 것은? [2 점]



- ① 노론이 오랫동안 집권하면서 몰락하는 양반이 늘어났다.
- ② 농업 기술이 발달하면서 농민 사이에서 빈부 격차가 커졌다.
- ③ 학문을 실용적이고 실증적으로 연구하려는 사람이 많아졌다.
- ④ 집권 세력은 양명학을 널리 받아들여 사회 문제를 해결하였다.
- ⑤ 당시 사회 문제를 해결하지 못하는 성리학에 대한 비판이 높아졌다.

19. 다음 덕목을 보급하기 위하여 노력했던 정치 세력들의 활동으로 옳은 것을 <보기>에서 고른 것은? [2 점]




— < 보 기 > —

ㄱ. 도덕과 의리의 숭상을 주장하였다.  
ㄴ. 조선 건국에 적극적으로 참여하였다.  
ㄷ. 주로 중앙의 언론 기관에서 활동하였다.  
ㄹ. 중앙 집권과 부국강병을 위해 노력하였다.

- ① ㄱ, ㄴ                      ② ㄱ, ㄷ                      ③ ㄴ, ㄷ
- ④ ㄴ, ㄹ                      ⑤ ㄷ, ㄹ

18. 다음 문화 유산이 만들어진 시기에 살았던 인물들의 활동으로 옳은 것을 <보기>에서 고른 것은? [1 점]

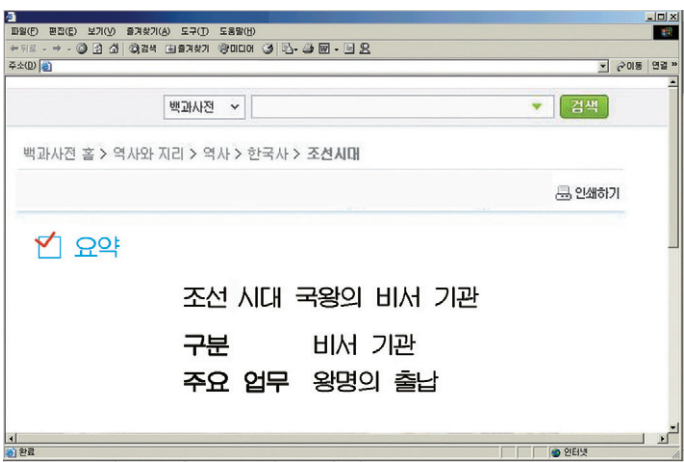


— < 보 기 > —

ㄱ. 군사 훈련을 받는 장용영의 군인  
ㄴ. 옛 서적을 연구하는 규장각의 관리  
ㄷ. 훈민정음으로 용비어천가를 짓는 학자  
ㄹ. 척화비 앞에서 비문을 읽어 보는 백성들

- ① ㄱ, ㄴ                      ② ㄱ, ㄷ                      ③ ㄴ, ㄷ
- ④ ㄴ, ㄹ                      ⑤ ㄷ, ㄹ

20. 인터넷 백과사전에서 다음과 같은 결과를 얻을 수 있는 검색어로 옳은 것은? [2 점]



- ① 상서성                      ② 승정원                      ③ 어사대
- ④ 중추원                      ⑤ 홍문관

21. 다음 시조가 지어진 시기에 있었던 우리 민족의 활동으로 옳은 것은? [2점]

적토마(赤兎馬) 살찌게 먹여 두만강 물에 씻겨 세우고,  
용천검(龍泉劍) 드는 칼을 선뜻 빼어 둘러메고  
장부(丈夫)의 입신양명(立身揚名)을 시험할까 하노라.  
- 남이 -

- ① 거란을 정벌하자는 운동을 벌였다.
- ② 여진을 축출하고 9성을 설치하였다.
- ③ 북방 개척을 위하여 4군 6진을 설치하였다.
- ④ 외교 담판을 통하여 강동 6주를 얻었다.
- ⑤ 조총 부대를 파견하여 청군과 함께 러시아군을 격퇴시켰다.

22. 다음 글에서 향리가 현감의 명령을 수행하는 데 필요한 물품으로 가장 적절한 것을 <보기>에서 고른 것은? [1점]

정조 7년(1783) ○월 ○○일 청안 현감은 향리 장○○에게  
“청안현 동면에서 이번에 거둬야 할 대동미와 군포를 징수해 오라.”고 하였다. 이에, 향리 장○○은 현감의 명령을 수행하기 위하여 아침 일찍 동면으로 갔다.

가.

말과 되

나.

자

다.

호패

르.

홍패 교지

- ① 가, 나
- ② 가, 다
- ③ 나, 다
- ④ 나, 르
- ⑤ 다, 르

23. 다음 빈칸에 들어갈 답사 주제로 적절한 것은? [2점]

답사 주제

답사 일정 : 강화도 일대 ⇒ 서울 종묘 ⇒ 서울 창덕궁 ⇒ 수원 화성 ⇒ 고창, 화순 일대 ⇒ 합천 해인사 ⇒ 불국사, 석굴암 ⇒ 경주 남산 일대

- ① 외침을 물리친 유적지를 찾아서
- ② 우리나라 인쇄 문화의 요람을 찾아서
- ③ 우리나라에 있는 세계 문화유산을 찾아서
- ④ 조선왕조실록을 보관하던 사고를 찾아서
- ⑤ 조선 시대 유교와 불교 문화의 보고를 찾아서

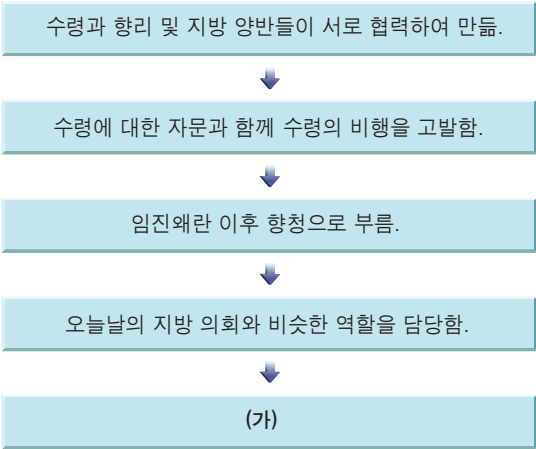
24. 지도에 표시된 지역에 관한 설명으로 옳은 것은? [2점]



- ① 미국의 제너럴 셔먼호가 이곳에서 격침되었다.
- ② 여진족이 이곳에 무역소의 설치를 요구하였다.
- ③ 삼별초는 이 섬에서 끝까지 몽골에 저항하였다.
- ④ 프랑스가 이곳에서 서적과 문화재를 약탈하였다.
- ⑤ 영국은 러시아의 남하를 막기 위해 이곳을 점령하였다.





25. 다음은 실마리를 하나씩 제시하여 답을 찾는 퀴즈이다. 빈 칸 (가)에 들어갈 수 있는 내용으로 옳은 것은? [2점]



- ① 농민도 적극적으로 참여함.
- ② 선현의 제사와 교육을 담당함.
- ③ 향회를 소집하여 지방 여론을 모음.
- ④ 정사암에 모여 나라의 정치를 논의함.
- ⑤ 외적 침입시 국방 문제를 논의함.

27. 같은 시대를 살았던 두 인물 (가), (나)에 관한 설명으로 옳은 것을 <보기>에서 고른 것은? [2 점]

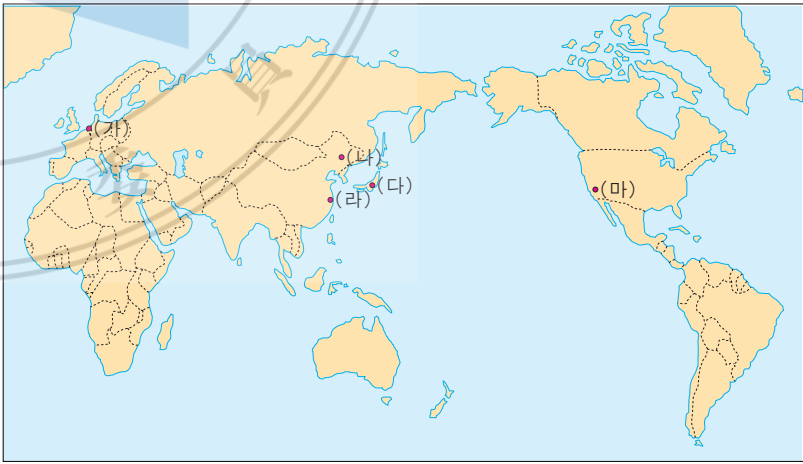
(가)	(나)
1851 충청도 공주 출생	1855 전라도 정읍 출생
1872 과거 시험에 급제	1890 동학에 입교
1884 갑신정변 주도	1894 동학 농민군 지휘
1894 중국 상하이에서 암살당함	1895 서울에서 처형당함
	

— < 보 기 > —

ㄱ. (가)는 독립 협회를 설립하여 민중의 계몽에 앞장섰다.  
ㄴ. (나)는 을사조약에 반대하는 의병 활동을 전개하였다.  
ㄷ. (가), (나)의 개혁 운동은 외세의 간섭으로 실패하였다.  
ㄹ. (가), (나)는 신분 차별이 없는 평등한 사회를 만들려고 하였다.

- ① ㄱ, ㄴ    ② ㄱ, ㄷ    ③ ㄴ, ㄷ    ④ ㄴ, ㄹ    ⑤ ㄷ, ㄹ

28. 지도의 (가)~(마)에서 있었던 애국지사들에 관한 활동으로 옳지 않은 것은? [2점]



- ① (가) - 특사로 파견된 이준은 일본의 침략을 호소하다가 순국하였다.
- ② (나) - 안중근은 우리나라 침략에 앞장섰던 이토 히로부미를 사살하였다.
- ③ (다) - 이봉창은 일본 국왕을 처단하기 위하여 폭탄을 던졌다.
- ④ (라) - 윤봉길은 일본군의 상하이 점령 축하 기념식장에 폭탄을 던졌다.
- ⑤ (마) - 이재명은 일본의 앞잡이인 이완용을 칼로 찔러 부상을 입혔다.

26. 다음 가상 인터뷰에서 밑줄 그은 ‘법전’으로 옳은 것은? [1점]

기자 : 이 법전을 만드신 까닭은 무엇입니까?  
세조 : 국가의 행정 질서 체계와 유교 사회의 질서를 확립하고자 만들었소.  
기자 : 고려 시대의 법과 다른 점은 무엇인가요?  
세조 : 고려 시대의 법은 죄인을 다스리는 내용이 중심이었으나, 이 법전은 정치, 경제, 사회, 문화의 기본 규범을 종합적으로 담고 있소.

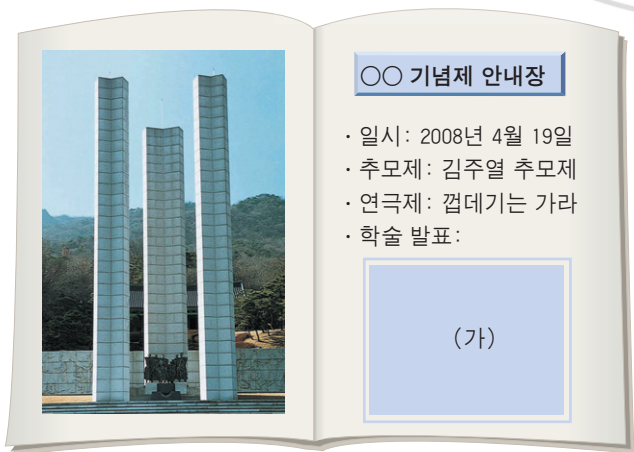
- ① 8조법                      ② 시무 28조                      ③ 경국대전
- ④ 홍범 14조                      ⑤ 대전통편

29. 다음 문서를 작성한 사람들의 주장으로 옳은 것은? [3점]



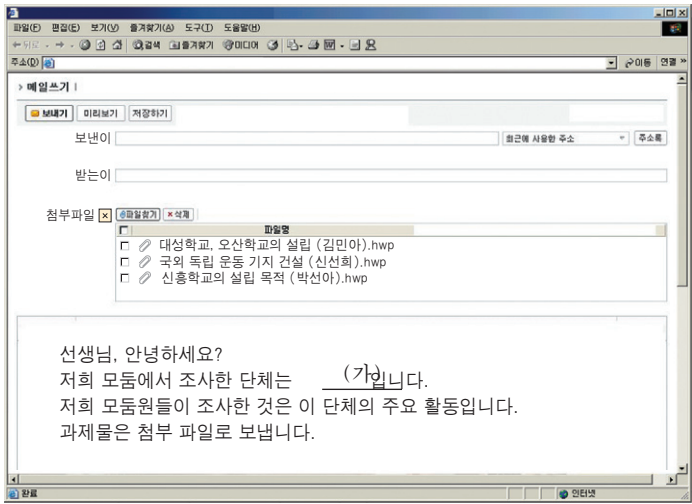
- ① 일본의 메이지 유신을 본받아 우리나라를 근대화하자.
- ② 내 목은 자를지언정 내 머리는 자를 수 없노라.
- ③ 을사 오적을 처단하라.
- ④ 토지를 골고루 나누어 경작하게 하라.
- ⑤ 국모(명성 황후)의 원수를 갚자.

30. 다음 안내장의 빈칸 (가)에 해당하는 내용으로 가장 적절한 것은? [1점]



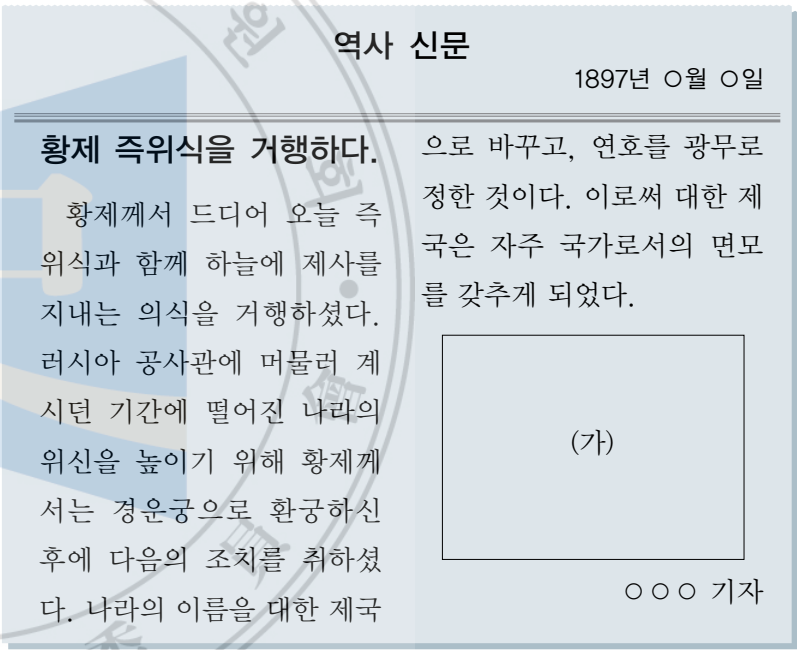
- ① 수출 100억 달러 달성의 역사적 의의
- ② 베트남 파병 군인들의 고엽제 피해 실태
- ③ 3·15 부정 선거의 실상과 그 사례 연구
- ④ 제3 공화국이 해결해야 했던 역사적 과제에 관한 고찰
- ⑤ 국가 재건 최고 회의가 우리 정치사에서 지니는 의미

31. 다음은 수행 평가 과제물을 제출하는 메일이다. (가)에 들어갈 단체로 옳은 것은? [2점]



- ① 신민회                      ② 보안회                      ③ 대한 협회
- ④ 헌정 연구회              ⑤ 대한 자강회

32. 다음 역사 신문의 (가)에 들어갈 사진으로 가장 적절한 것은? [2점]



- ① 경북궁 근정전
- ② 황궁우
- ③ 독립관
- ④ 우정총국
- ⑤ 덕수궁 석조전



33. 다음에서 설명하는 단체의 활동으로 옳은 것을 <보기>에서 고른 것은? [2 점]

‘의(義)를 맹렬히 실천한다.’라는 뜻을 가진 이 단체는 김원봉 등이 만주에서 결성한 비밀 조직이었다. 주로 일제의 식민 통치 기관을 폭파하거나 국내외에서 일본 요인을 사살하였다.

- < 보 기 > —
- ㄱ. 장인환은 친일 미국인 스티븐스를 사살하였다.
  - ㄴ. 홍범도는 봉오동에서 일본군을 크게 격파하였다.
  - ㄷ. 김상옥은 종로 경찰서에 폭탄을 던진 후에 순국하였다.
  - ㄹ. 김익상은 식민 통치 기구인 조선 총독부에 폭탄을 던졌다.

- ① ㄱ, ㄴ    ② ㄱ, ㄷ    ③ ㄴ, ㄷ    ④ ㄴ, ㄹ    ⑤ ㄷ, ㄹ

34. 다음 대화에서 밑줄 그은 내용에 해당하는 건물로 옳은 것은? [2 점]



- ①
- ②
- ③
- ④
- ⑤

35. 일제에 맞서 싸운 애국 여성 (가), (나)에 대한 설명으로 옳지 않은 것은? [2 점]



- ① (가)는 정미의병 때 여성 의병을 조직하여 항일 투쟁에 참여하였다.
- ② (나)는 3·1 운동 때 아우내 장터에서 만세 시위를 주도하였다.
- ③ (가)는 국권 상실 이후에 만주로 망명하여 세 아들의 독립군 활동을 도왔다.
- ④ (나)는 옥중 투쟁을 벌이다가 일제의 심한 고문으로 순국하였다.
- ⑤ (가), (나)는 브나로드 운동을 통해 한글을 가르치는 데 앞장섰다.

36. 다음 인물들이 국가보훈처 홈페이지의 ‘이달의 독립운동가’로 선정된 이유로 옳은 것은? [1 점]




- ① 민족 의식을 강조하는 민족주의 사학을 발전시켰다.
- ② 청산리에서 일본군 부대와 싸워 큰 승리를 거두었다.
- ③ 물산 장려 운동을 전개하여 국산품 애용을 주장하였다.
- ④ 일본에 진 빚을 갚기 위한 국채 보상 운동을 전개하였다.
- ⑤ 한국 광복군의 일원으로 연합군과 함께 대일전에 참여하였다.

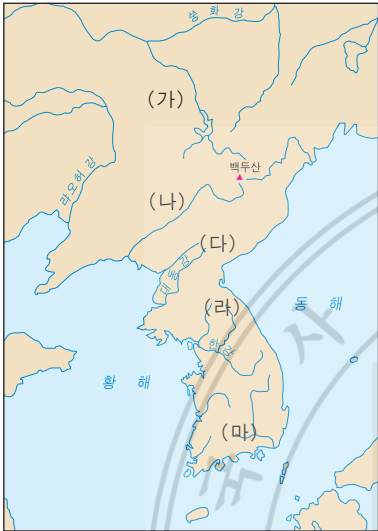


37. 다음 자료와 관련된 나라를 지도에서 찾으려면? [2점]

10월에 동맹이라는 제천 행사가 있었는데, 온 백성이 춤을 추고 노래를 부르며 하늘에 제사하였다. 또, 나라의 동쪽에 ‘수혈(국동대혈)’이라 부르는 큰 굴이 있어 왕과 신하들이 여기에 모여 제사를 지냈다.




국동대혈



- ① (가)    ② (나)    ③ (다)    ④ (라)    ⑤ (마)

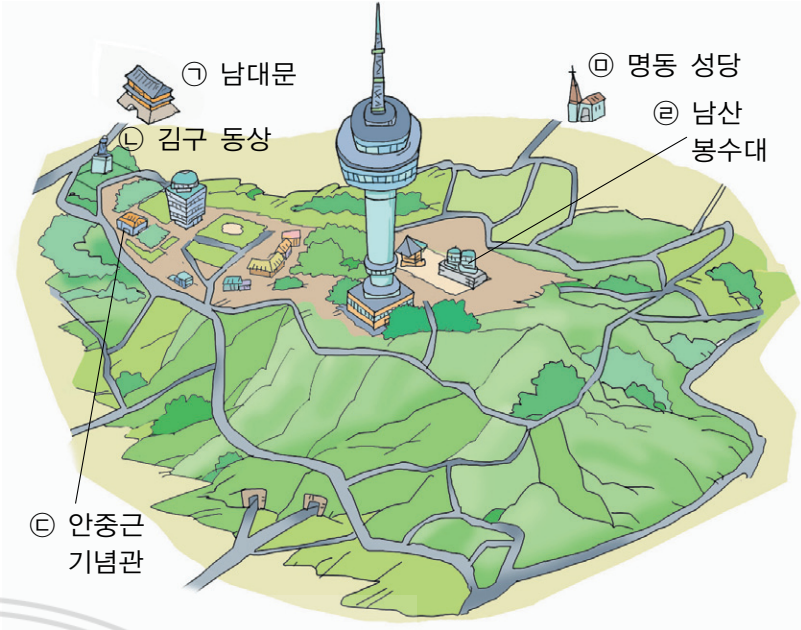
38. 다음 뉴스의 빈칸 (가)에 들어갈 지역에 관한 설명으로 옳은 것은? [2점]



지난 5월 20일에 새로 공개된 이 책자는 일본 동경 학습사에서 1939년에 발행한 역사 부도입니다. 이 책의 40쪽에는 러·일 전쟁 당시 일본 전역을 표시하면서 일본 영토는 붉은색으로, 조선 영토는 회청색으로 각각 표시했는데, (가)은(는) 죽도로, 울릉도는 송도라고 적혀 있고, 회청색으로 색칠되어 있습니다.


- ① 예성강 입구에 있는 고려 시대의 대표적인 무역항이었다.  
② 일본에 문호를 개방하는 최초의 불평등 조약이 체결되었다.  
③ 조선 숙종 때 안용복이 일본에 건너가 우리 땅임을 확인시켰다.  
④ 고려 말 이성계는 이곳에서 회군하여 정치적 실권을 장악하였다.  
⑤ 장보고가 청해진을 설치하여 서해와 남해 무역의 중심지가 되었다.

39. 다음 그림은 남산과 그 주변의 주요 볼거리를 표시한 것이다. ㉠~㉤에 관한 설명으로 옳지 않은 것은? [2점]



- ① ㉠ - 국보 제1호로 숭례문이라고도 부른다.  
② ㉡ - 대한민국 임시 정부의 첫 번째 대통령이였다.  
③ ㉢ - 만주 하얼빈에서 이토 히로부미를 사살하였다.  
④ ㉣ - 산 정상에 설치하여 통신 수단으로 이용하였다.  
⑤ ㉤ - 한국 천주교를 대표하는 성당으로 고딕 양식 건물이다.


40. 관리의 이야기 중에서 빈칸 (가)에 들어갈 내용으로 옳은 것은? [1점]



- ① 출장 갈 때에 말 세 마리를 이용하는 것  
② 나루터에서 조운선 세 척을 타는 것  
③ 필요할 때에 세 명의 역졸을 부리는 것  
④ 원(숙소)에서 방 세 개를 사용하는 것  
⑤ 봉수대에 올라가 봉화 세 개를 올리는 것



41. 선생님의 질문에 대한 학생의 답변으로 가장 적절한 것은? [2 점]



- ① 능력 중심의 인재 등용을 위해서입니다.
- ② 양반 관료 체제의 확립을 위해서입니다.
- ③ 민본적 정치 이념을 확립하기 위해서입니다.
- ④ 왕권과 신권의 조화를 추구하기 위해서입니다.
- ⑤ 국왕 중심의 통치 질서를 확립하기 위해서입니다.

43. 다음 비를 건립한 왕과 그의 정책이 바르게 연결된 것은? [2 점]



“두루 사랑하고 편당하지 않는 것은 군자의 공정한 마음이며, 편당하고 두루 사랑하지 않는 것은 소인의 사사로운 마음이다.”

- ① 세종 - 궁중에 집현전을 설치하고 학문 연구를 장려하였다.
- ② 숙종 - 편당적인 인사 관리로 일관하여 환국이 일어났다.
- ③ 경종 - 외척과 종실 등 왕과 직결된 집단의 정치적 비중을 강화하였다.
- ④ 영조 - 강력한 왕권으로 붕당 사이의 치열한 다툼을 일시적으로 억눌렀다.
- ⑤ 정조 - 친위 부대로 장용영을 설치하고, 수원에 화성을 쌓았다.

44. 보고서의 (가)에 들어갈 그림으로 적절한 것을 <보기>에서 고른 것은? [2 점]

학습 활동 보고서

1. 일시 : 2008. 5. 24.

2. 장소 : 서울특별시 강동구 암사동

3. 학습 내용 : 신석기 시대의 생활상

- 집자리 유적의 중앙에 화덕 자리가 있다.
- 농경 도구인 돌낫, 돌괭이, 빗살무늬 토기 등이 발견되었다.

(가)

42. 다음은 조선 후기 어느 양반의 일생이다. 이와 관련된 설명으로 옳지 않은 것은? [2 점]

1679년(숙종 5) - 출생  
1699년(숙종 25) - 소과 급제 ..... (가)  
1702년(숙종 28) - 대과 급제 ..... (나)  
1708년(숙종 34) - 사헌부 감찰 ..... (다)  
1723년(경종 3) - 예조 판서 ..... (라)  
1736년(영조 12) - 영의정 ..... (마)  
1746년(영조 22) - 사망

- ① (가) - 성균관에 입학할 자격을 얻었다.
- ② (나) - 문반 관료로 진출할 기회를 얻었다.
- ③ (다) - 관리를 감시하고 살피는 임무를 수행하였다.
- ④ (라) - 외교 문서를 작성하는 업무를 담당하였다.
- ⑤ (마) - 다른 대신들과 함께 교정청을 이끌었다.

< 보 기 >

ㄱ. 반달 돌칼로 벼이삭을 자르는 농부

ㄴ. 그물을 이용하여 물고기를 잡는 부부

ㄷ. 움집에서 빗살무늬 토기를 만드는 여인

ㄹ. 청동검과 청동 방울을 들고 있는 족장

- ① ㄱ, ㄴ                      ② ㄱ, ㄷ                      ③ ㄴ, ㄷ
- ④ ㄴ, ㄹ                      ⑤ ㄷ, ㄹ

45. 다음 현대사의 주요 장면이 나타난 사진을 시대순으로 바르게 나열한 것은? [2점]

(가)

신탁 통치 반대 운동

(나)

5·16 군사 정변

(다)

6월 민주 항쟁

(라)

5·18 민주화 운동

- ① (가) - (나) - (라) - (다)    ② (나) - (라) - (가) - (다)
- ③ (다) - (라) - (가) - (나)    ④ (다) - (가) - (나) - (라)
- ⑤ (라) - (나) - (가) - (다)

46. 다음과 같은 일제의 식민지 지배 정책의 변화를 가져온 사건으로 옳은 것은? [2점]

앞으로 한국인에게 교육의 기회를 확대할 것이며, 한글로 된 신문의 발행도 허가할 것이다. 또, 능력 있는 한국인을 총독부의 관리로 임명할 것이며, 헌병 경찰 제도를 폐지할 것이다.

- 1900년 조선 총독 사이토 -

- ① 3·1 운동                                ② 청산리 전투
- ③ 을사조약 체결                        ④ 6·10 만세 운동
- ⑤ 광주 학생 항일 운동

47. 다음 퀴즈에서 추가로 줄 수 있는 힌트로 옳은 것은? [3점]

#. 역사 퀴즈

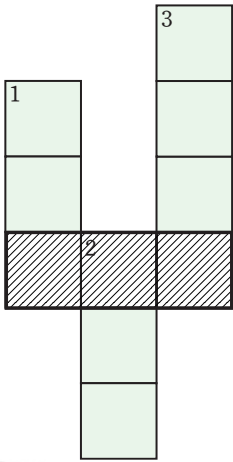
다음은 조선 시대의 기관을 알아맞히는 문제입니다. 조선 시대 삼사라고 불렸던 기관의 하나로서 왕의 정치 자문과 왕명의 대필을 담당하였습니다. 이 기관의 이름은 무엇일까요?

힌트 : \_\_\_\_\_

- ① 다른 이름으로는 ‘옥당’이라고 불렸습니다.
- ② 후기에는 ‘도평의사사’로 개편되었습니다.
- ③ 영의정, 좌의정, 우의정 등이 참여하였습니다.
- ④ 한마디로 왕의 비서 기관이라고 할 수 있습니다.
- ⑤ 관리의 비행을 감시하고 살피는 일도 담당했습니다.

서 답 형

48. 다음 퍼즐을 완성하여 빗금 그은 칸 안에 들어갈 역사 용어를 쓰시오. [4점]



- 세로 열쇠
1. 지증왕이 정복하여 우리 영토가 된 울릉도의 옛 이름
2. 세종 때 장영실이 제작한 물시계의 이름
3. 최충헌이 설치한 무신 정권의 최고 정치 기구

49. 다음에서 설명하는 비석의 이름을 쓰시오. [4점]

이 비석은 숙종 38년(1712)에 청과 우리의 경계선을 확정하기 위해 세운 것이다. 비석에는 “서쪽으로는 압록강, 동쪽으로는 토문강을 경계로 삼는다.”라고 새겨져 있다.



50. 다음 자료의 밑줄 그은 ‘북벌’과 ‘북학’의 차이점을 50자 내외로 서술하시오. [5점]

- 병자호란의 패배로 청에 인질로 잡혀갔던 효종이 인조의 뒤를 이어 왕위에 오르자 북벌을 준비하였다.
- 18세기 영·정조 무렵, 청에 다녀온 실학자를 중심으로 북학론이 대두하였다.