



2009년도 제 6회 한국사능력검정시험 문제지

국사편찬위원회

성명		수험 번호							
----	--	-------	--	--	--	--	--	--	--

- 자신이 선택한 등급의 문제지인지 확인하시오.
- 문제지에 성명과 수험 번호를 정확히 써넣으시오.
- 답안지에 성명과 수험 번호를 써넣고, 또 수험 번호와 답을 정확히 표시하시오.
- 시험 시간은 80분입니다.

1. 오늘날 우리가 즐겨 먹는 다음 음식 중에서 조선 전기에도 먹을 수 있었던 것은? [2 점]

① 
김치


② 
감자조림

③ 
호박죽

④ 
설령탕

⑤ 
고구마 맛탕

2. 다음 민속놀이와 관련된 인물로 옳은 것은? [1 점]



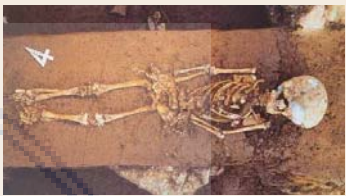
이 놀이의 유래는, 우리 수군이 왜군과 대치하고 있을 때 부근 부녀자들을 동원해서 ‘강강술래’라는 노래를 부르며 한 데서 비릇되었다고 한다. 우리 군사를 많게 보이게 하고 왜군이 해안에 상륙하는 것을 감시하기 위해서였다. 진도와 해남 지방의 강강술래는 중요 무형 문화재로 지정되었다.

- ① 을지문덕
② 김유신
③ 강감찬
- ④ 이순신
⑤ 임경업

3. 다음 보고서를 통해 ‘홍수아이’가 살았을 당시의 생활 모습을 추론한 내용으로 적절하지 않은 것은? [2 점]

발굴 보고서

- 발굴 연도 : 1983년
- 발굴 장소 : 충북 청원 두루봉 동굴
- 발굴 당시 모습

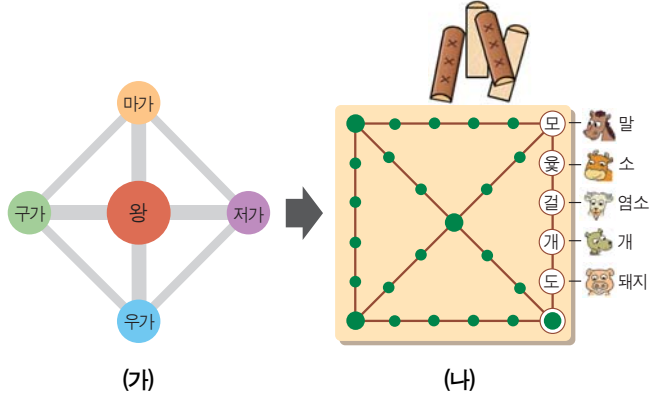


홍수아이

- 주변의 토양과는 다른 고운 흙이 유골을 덮고 있었다.
- 유골은 약 4만 년 전에 죽은 5세 정도 아이의 것으로 추정된다.
- 동굴에서 빙하기 동물인 쌍코뿔소, 큰꽃사슴의 뼈가 많이 발견되었다.
- 동굴 안에서 발견된 화덕 자리 옆에서는 조리용 펜석기가 다수 출토되었다.

- ① 불을 사용할 줄 알았다.
- ② 동굴을 주거 공간으로 이용하였다.
- ③ 사람이 죽으면 장례를 치러 주었다.
- ④ 토기를 이용해서 음식을 조리하였다.
- ⑤ 주먹도끼를 이용해서 동물을 사냥하였다.

4. (나) 민속놀이의 유래는 (가)에서 비롯되었다고 한다. (가) 정치 조직을 갖추었던 나라에 대한 설명으로 옳은 것은? [2 점]



- ① 중국과 왜에 철을 수출하였다.
- ② 서옥제라는 혼인 제도가 있었다.
- ③ 어린 며느리를 맞이하는 풍속이 있었다.
- ④ 순장 풍습이 있었고, 흰옷을 즐겨 입었다.
- ⑤ 다른 음력을 침범하면 소, 말 등으로 갚게 하였다.

5. 다음 법률을 통해 세 나라의 공통점을 추론한 것으로 가장 적절한 것은? [3 점]

• 고조선의 법

- 사람을 죽인 자는 사형에 처한다.
- 남을 다치게 한 자는 곡물로 갚는다.
- 도둑질을 한 자는 잡아다 종으로 삼는다.

• 바빌로니아의 함무라비 법전

- 귀족이 평민의 눈을 다치게 하거나 뼈를 부러뜨리면 은화 1마나를 지불한다.
- 귀족이 노예의 눈을 다치게 하거나 뼈를 부러뜨리면 노예 값의 반을 지불한다.
- 만약 부인이 재산을 낭비하고 남편을 멸시하였으면 그녀를 물속에 던진다.

• 로마의 12표법

- 주먹으로 자유인을 쳐서 뼈를 부러뜨린 경우에는 금 300 아스를 지불해야 한다. 노예인 경우에는 150아스를 지불해야 한다.

- ① 신분제 사회였을 것이다.
- ② 제정일치 사회였을 것이다.
- ③ 상업 중심의 사회였을 것이다.
- ④ 남녀 차별이 거의 없었을 것이다.
- ⑤ 청동기를 사용해 전쟁을 하였을 것이다.

6. 다음 수행 과제를 해결하기 위해 조사한 주제가 적절하지 않은 모듬은? [2 점]

수행 과제 : 발해가 고구려를 계승한 나라임을 알 수 있는 사례를 조사해서 올리세요.

알림터

☒ 과제 제출방

☐ 자료 모음

☐ 역사학습 Q&A

모듬명 | 주제

1조	발해의 온돌 장치
2조	발해의 3성 6부제
3조	발해가 일본에 보낸 국서
4조	발해 지배층의 민족 구성
5조	정혜 공주 묘의 모줄임 구조

- ① 1조
- ② 2조
- ③ 3조
- ④ 4조
- ⑤ 5조

7. 다음 학생들이 토론하고 있는 주제로 적절한 것은? [2 점]



- ① 6두품은 왜 호족과 손을 잡았나?
- ② 문벌 귀족은 어떻게 권력을 세습하였나?
- ③ 정중부 등 무신이 봉기한 이유는 무엇인가?
- ④ 신진 사대부들은 왜 새로운 왕조를 개창하였을까?
- ⑤ 권문세족이 권력을 장악할 수 있었던 배경은 무엇일까?

8. 다음 계획서의 (가)에 들어갈 사진 자료로 적절한 것은? [2 점]

일본 속 한민족의 문화 탐방 계획서

1. 기간 : 2009년 8월 10일 ~ 8월 14일
2. 장소 : 일본 나라현 일대
3. 탐방 목적 : 일본에 남겨진 한민족의 흔적 찾기
 - (1) 백제 국왕이 왜에 보낸 선물을 통해 본 양국의 우호 관계

• 첨부 사진 자료

(가)



9. 다음 역사 신문에서 (가)에 들어갈 인물에 대한 설명으로 옳지 않은 것은? [1 점]

역사신문

이달의 인물, (가)
도학 정치의 선두 주자!
1482년생. 관직에 나오기 전부터 중앙 정계에 이름이 알려질 정도로 촉망받았던 인재로, 알성문과에 급제하여 4년 만에 종2품 대사헌에 임명되었다.
관직 진출 직후 추천에 의한 인재 등용을 주장하는 등 개혁 정책을 추진하였다.

- ① 길재의 학통을 이어받았다.

② 현량과의 실시를 주장하였다.

③ 청을 치자는 북벌을 주장하였다.

④ 훈구 세력의 잘못을 비판하였다.

⑤ 유교적 이상 정치를 추구하였다.
10. 지도에 표시된 지역을 답사하였을 때 볼 수 있는 문화재로 옳은 것은? [2 점]



- ①

②

③

④

⑤

11. 다음 상황이 나타난 시기를 연표에서 옳게 고른 것은? [2 점]



(가)	(나)	(다)	(라)	(마)
고려 건국	묘청의 서경 천도 운동	무신정변	삼별초의 항쟁	위화도 회군
① (가)	② (나)	③ (다)	④ (라)	⑤ (마)

12. 다음은 새롭게 발행될 5만원권 견본이다. ○ 표시된 인물에 대한 설명으로 옳은 것을 <보기>에서 고른 것은? [2 점]



- < 보 기 >
- ㄱ. 강릉에 살면서 율곡 이이를 낳았다.

ㄴ. 조선 시대의 여류 문인이자 서화가이다.

ㄷ. 서경덕, 박연 폭포와 더불어 송도삼절로 일컬어진다.

ㄹ. 남성 중심의 사회 체제를 비판하는 작품을 많이 남겼다.

- ① ㄱ, ㄴ

② ㄱ, ㄷ

③ ㄴ, ㄷ

④ ㄴ, ㄹ

⑤ ㄷ, ㄹ

13. 다음 보고서에 들어갈 사진 자료로 적절하지 않은 것은? [1 점]



- ① (가) ② (나) ③ (다) ④ (라) ⑤ (마)

14. 지도의 (가) 지역에서 전개된 민족 운동을 <보기>에서 옳게 고른 것은? [3 점]



— < 보 기 > —

- ㄱ. 대한민국 임시 정부가 수립되었다.
 ㄴ. 흥범도의 대한 독립군이 일본군을 크게 무찔렀다.
 ㄷ. 윤봉길은 폭탄을 던져 일본군 지휘관을 살상하였다.
 ㄹ. 신민회는 독립 역량을 기르기 위해 신흥 무관 학교를 세웠다.

- ① ㄱ, ㄴ ② ㄱ, ㄷ ③ ㄴ, ㄷ
 ④ ㄴ, ㄹ ⑤ ㄷ, ㄹ

15. 다음의 원리로 작동되었던 문화재에 대한 설명으로 옳은 것은? [1 점]



맨 위에 있는 큰 물그릇에 넉넉히 물을 부어 주면 그 물이 아래의 작은 그릇을 거쳐, 제일 아래쪽 길고 높은 물받이통에 흘러든다.

물받이통에 물이 고이면 그 위에 떠 있는 잣대가 점점 올라가 미리 정해진 눈금에 닿으며, 그곳에 있는 지렛대 장치를 건드려 그 끝의 쇠구슬을 구멍 속에 굴러 넣어 준다.

이 쇠구슬은 다른 쇠구슬을 굴러 주고, 그것들이 차례로 미리 꾸며 놓은 여러 공이를 건드려 종, 징, 북을 울리기도 하고, 또는 나무로 만든 인형이 나타나 시각을 알려 주는 팻말을 들어 보이기도 한다.

- ① 세종 때에 발명되었다.
 ② 양부일구라고 불렸다.
 ③ 정약용이 처음 제작하였다.
 ④ 실학 사상의 영향을 받았다.
 ⑤ 강수량을 측정하는 데 사용되었다.

16. 자료의 밑줄 그은 ‘이 섬’에 대한 설명으로 옳지 않은 것은? [2 점]



울릉도와 이 섬은 울진현의 정동쪽에 있다. 두 섬은 서로 거리가 멀지 않으며, 날씨가 청명하면 바라볼 수 있다. 신라 시대에는 우산국이라 칭하였다.

- ① 근해에는 해양 자원이 풍부하다.
 ② 일본에 빼앗겼다가 광복 후에 되찾았다.
 ③ 일본이 러·일 전쟁 중에 일본 영토에 편입시켰다.
 ④ 조선 숙종 때, 안용복은 일본에 가서 우리 영토임을 확인 받았다.
 ⑤ 이 섬에서 일본 본토까지의 거리가 울릉도까지의 거리보다 가깝다.

17. 다음 선생님의 수업 내용 중에서 (가)에 대한 설명으로 옳지 않은 것은? [2 점]



이 그림은 김홍도가 그렸습니다. 회초리를 맞는 아이와 주변에서 웃음을 참고 있는 아이들의 모습이 참 익살스럽죠? 이 그림은 조선 시대 교육 기관의 하나인 (가)의 풍경입니다.

- ① 초등 교육을 담당하였다.
- ② 천자문과 소학 등을 가르쳤다.
- ③ 향촌 사회의 사설 교육 기관이었다.
- ④ 나라에서 군·현마다 하나씩 세웠다.
- ⑤ 주로 선비와 평민의 자제들이 교육받았다.

18. 다음 자료의 표시한 ‘임금님’이 실시한 정책으로 옳은 것은? [2 점]



이 그림은 임금님이 어머니인 혜경궁 홍씨와 함께, 억울하게 죽은 아버지 사도세자의 능을 방문하는 모습이다.

- ① 경국대전을 편찬하였다.
- ② 균역법을 처음으로 실시하였다.
- ③ 명과 후금 사이에서 중립 외교 정책을 폈다.
- ④ 척화비를 세워 서양과의 통상을 거부하였다.
- ⑤ 규장각을 설치하여 젊은 학자들을 등용하였다.

19. 다음과 같은 탈춤이 유행하게 된 배경으로 가장 적절한 것은? [2 점]



- ① 성리학적 윤리가 더욱 강화되고 있었다.
- ② 서민들의 사회·경제적 지위가 높아졌다.
- ③ 양반의 농민에 대한 지배력이 강화되었다.
- ④ 한양을 중심으로 귀족 문화가 발달하였다.
- ⑤ 중국에서 수입된 다양한 문화가 유행하였다.

20. 자료의 밑줄 그은 ㉠, ㉡은 같은 지역이다. 이 지역에서 볼 수 있는 문화재로 옳은 것을 <보기>에서 고른 것은? [2 점]

- ㉠ 오백 년 도움지를 필마로 돌아오니 산천은 의구하되 인결은 간 데 없네. 어즈버 태평연월이 꿈이런가 하노라.
- 길재 -
- ㉡ 이 지역은 남북한이 공동으로 남북한 및 외국 기업의 유치를 통해 세계적 규모의 산업 단지로 육성하려는 곳이다. 또, 동북아시아 지역의 중추적 거점을 만들기 위해 자유 경제 지대로 지정되었다.

< 보 기 >



- ① ㉠, ㉡ ② ㉠, ㉢ ③ ㉡, ㉣
- ④ ㉡, ㉣ ⑤ ㉢, ㉣

21. 자료의 인물이 일본으로 끌려가는 계기가 된 전쟁으로 옳은 것은? [1 점]



이삼평 기념비

이삼평은 일본의 대표적인 아리타 도자기의 원조로 추앙받는 우리나라 출신의 도공이다. 일본에 끌려가 아리타(有田)의 이즈미야마(泉山)에서 도자기 원료를 발견해 백자를 만들어냄으로써 일본 도자기의 효시가 되었다. 아리타에서는 그를 기념하는 비를 세웠고, 매년 5월 4일에 세계적인 도예 축제를 열고 있다.

- ① 을묘왜변 ② 임진왜란 ③ 정묘호란
④ 병자호란 ⑤ 태평양 전쟁

22. 다음은 어느 방송사의 음식 소개 프로이다. 이 음식과 직접 관련이 있는 영조의 정책으로 옳은 것은? [1 점]

재료를 골고루 섞어서인지 색깔이 참 다채롭네요. 이름이 어디서 유래 되었나요?



영조가 여러 봉당 사람들을 부른 자리에 이 음식을 처음 내놓게 하여 붙여졌다는 이야기가 있어요.

- ① 영정법 실시 ② 속대전 편찬
③ 신문고의 부활 ④ 탕평책의 실시
⑤ 형벌 제도의 완화

23. 자료의 밑줄 그은 ‘이들’에 대한 설명으로 옳은 것은?

[2 점]



이들은 떠돌아다니며 장사하는 외롭고 힘든 생활을 했기 때문에 상호 결집력이 강했으며, 자신들의 이익을 지키고 단결을 굳게 하기 위하여 단체를 이루고 있었다.

- ① 장시를 무대로 활동하였다.
② 대동법의 시행으로 등장하였다.
③ 국가가 필요로 하는 특정 물품을 납부하였다.
④ 선박을 이용해서 지방의 물품을 포구에서 처분하였다.
⑤ 상품의 매매를 중개하고 금융, 숙박 등의 영업도 하였다.

24. 다음 대화의 주제로 옳은 것은? [1 점]

3·1 운동 직후 독립운동을 조직적으로 이끌기 위해 만들어졌어.



맞아, 연동제를 통해 독립운동 자금을 조달하고 구미위원부를 두어 외교 활동을 전개하였어.

- ① 의열단의 역할 ② 북로 군정서의 활동
③ 한인 애국단의 역할 ④ 대한 광복군의 활동
⑤ 대한민국 임시 정부의 역할

25. 다음 노래와 관련된 일제의 식민 통치 정책에 대한 설명으로 가장 적절한 것은? [3 점]



노다지 노다지 금노다지
노다지 노다지 금노다지
노다진지 침뿌린지 알 수가 없구나.
금당나귀 나올까 기다렸더니
침뿌리만 나오니 성화가 아니냐.
앵여라차 차차 앵여라차 차차
눈깔 먼 노다지야 어디가 묻혔길래
요다지 태우느냐 육촌 간장을
앵여라차 차차 앵여라차.

- 1939년 -

- ① 우리 민족을 분열시키는 정책을 실시하였다.
② 산미 증식 계획을 추진하여 쌀을 약탈해 갔다.
③ 토지 조사 사업을 실시하여 토지를 약탈하였다.
④ 헌병 경찰 통치를 실시하여 기본권을 박탈하였다.
⑤ 병참 기지화 정책을 실시하면서 광물 자원을 수탈하였다.

26. 지도에 표시된 철도가 건설된 목적으로 옳은 것은? [2 점]



- ① 청이 조선의 자원을 수탈하기 위해
- ② 미국이 조선의 이권을 차지하기 위해
- ③ 러시아가 남하 정책을 추진하기 위해
- ④ 영국이 러시아의 남하 정책을 막기 위해
- ⑤ 일본이 대륙으로 군수 물자를 수송하기 위해

27. (가)에 들어갈 사진으로 적절한 것은? [2 점]

답사 안내장

- 1. 기간 : 2009년 △월 △일~△일
- 2. 장소 : 국채 보상 운동을 처음 발의한 유적지
- 3. 대상 : ○○중학교 우리 문화유산 답사 팀

(가)



28. 선생님의 질문에 대한 답으로 적절하지 않은 것은? [2 점]

대한 제국의 수출입 현황(1905년)

수출품	금액(원)	수입품	금액(원)
쌀	890,655	철도 자재	2,636,110
콩	2,609,826	면제품	12,016,802
수산물	204,563	밀가루, 설탕, 술	1,902,518
소가죽	611,619	담배	1,166,786
가축	537,880	성냥	302,930
⋮	⋮	⋮	⋮
총 액	6,904,301	총 액	31,959,582



- ① 철도가 건설되었어요.
- ② 무역 수지가 적자였어요.
- ③ 공산품을 많이 수입했어요.
- ④ 쌀값이 올라 농민들의 생활이 나아졌어요.
- ⑤ 농촌의 가내 수공업이 큰 타격을 받았어요.

29. 다음 자료와 관련된 인물의 주장으로 볼 수 없는 것은? [1 점]



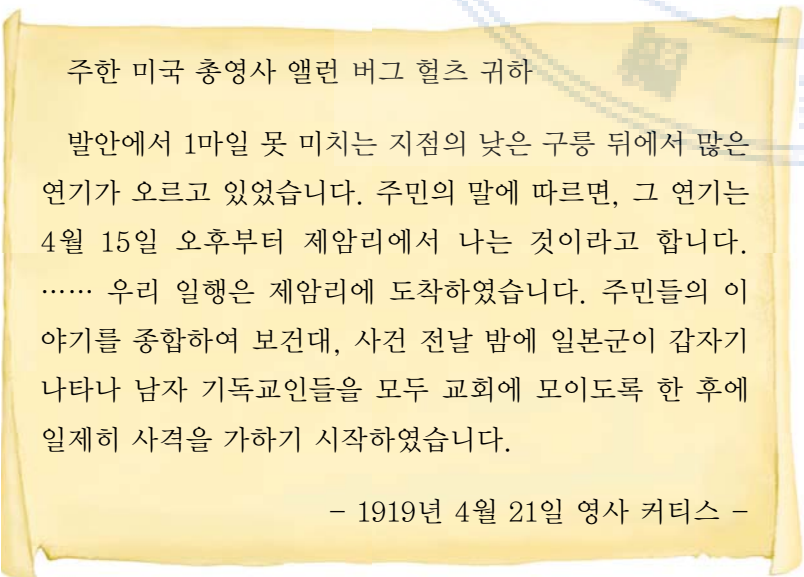
- ① 불량한 양반을 징계하라.
- ② 노비 문서를 불태워 없애라.
- ③ 젊은 과부의 재가를 허용하라.
- ④ 민심을 반영할 수 있는 의회를 설치하라.
- ⑤ 탐관오리의 죄상을 조사하여 엄중히 처벌하라.

30. 다음과 같은 교재를 널리 사용한 공통적인 목적으로 옳은 것은? [2 점]



- ① 서양 문학 작품을 소개하기 위해
- ② 중국 중심 사상을 극복하기 위해
- ③ 조선의 전쟁 기술을 연구하기 위해
- ④ 외국의 문물을 적극 받아들이기 위해
- ⑤ 애국심을 가진 인재를 육성하기 위해

31. 다음 자료와 관련된 민족 운동에 대한 설명으로 옳지 않은 것은? [2 점]



- ① 일제의 무자비한 탄압으로 진압되었다.
- ② 고종 황제의 독살 소문이 기폭제가 되었다.
- ③ 월슨이 제창한 민족 자결주의의 영향을 받았다.
- ④ 종교계의 민족 지도자들과 학생들이 준비하였다.
- ⑤ 신간회의 노력으로 전국적인 민족 운동으로 발전하였다.

32. 다음 단체와 관련된 그림 자료로 가장 적절한 것은? [2 점]

이 단체는 1923년 1월 20일 서울 낙원동 협성 학교에서 창립되었다. 23일에 발기인들은 다가오는 음력 정월 초하루부터 옷과 음식, 일용품 등에서 조선 물산을 사용하기로 결의하고, '남자는 두루마기, 여자는 치마를 입을 것' 등을 행동 지침으로 결정하였다.

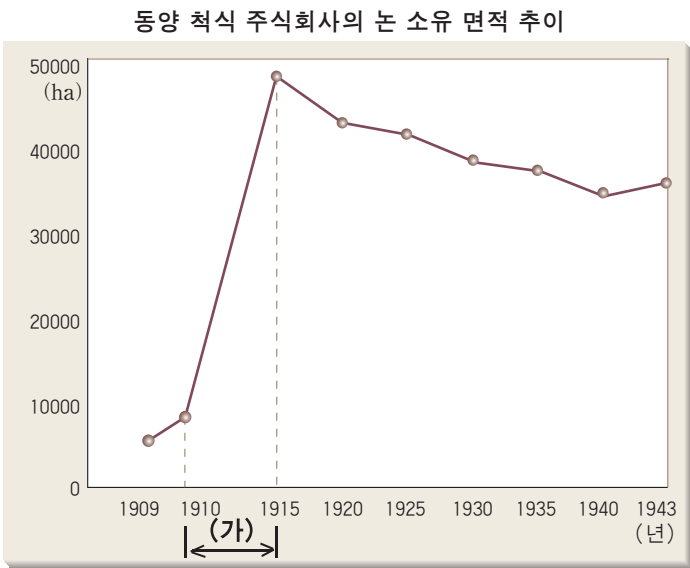


33. 다음 자료와 관련된 민주화 운동의 결과로 옳은 것은? [2 점]



- ① 대통령이 헌정을 중단시키고 유신을 선포하였다.
- ② 이승만 정권이 무너지고 장면 내각이 성립되었다.
- ③ 대통령의 비리를 조사하기 위한 청문회가 개최되었다.
- ④ 박정희를 비롯한 일부 군인들이 군사 정변을 일으켰다.
- ⑤ 군부 세력이 굴복하여 6·29 민주화 선언이 이루어졌다.

34. 그래프에서 (가) 시기의 변화를 알아보기 위한 탐구 활동으로 적절한 것은? [3 점]



- ① 산미 증식 계획의 영향을 알아본다.
- ② 토지 조사 사업의 목적을 살펴본다.
- ③ 미곡 공출 제도의 결과를 알아본다.
- ④ 병참 기지화 정책의 실태를 찾아본다.
- ⑤ 남면 북양 정책의 실시 배경을 조사한다.

35. 다음 노래와 관련된 우표로 가장 적절한 것은? [2 점]

1. 새벽종이 울렸네 새 아침이 밝았네.
.....
2. 초가집도 없애고 마을길도 넓히고
푸른 동산 만들어 알뜰살뜰 다듬세.
3. 서로서로 도와서 땀흘려서 일하고
소득 증대 힘써서 부자 마을 만드세.
4. 우리 모두 굳세게 싸우면서 일하고
일하면서 싸워서 새 조국을 만드세.
(후렴) 살기 좋은 내 마을 우리 힘으로 만드세.



36. 다음은 독립 기념관의 사이버 전시관 안내도이다. 제 5전시관에서 볼 수 있는 것으로 적절한 것은? [3 점]

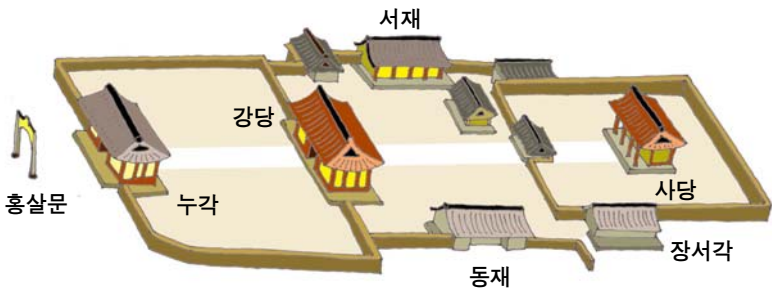


- ① 청산리 전투 관련 영상물
- ② 안중근의 하얼빈 의거를 재현한 모형
- ③ 한국 광복군의 항일 운동에 관한 자료
- ④ 일제의 민족 말살 정책에 대항한 국사, 국어 연구 서적
- ⑤ 군대 해산을 계기로 전개된 의병들의 활동을 표시한 지도

37. 다음은 박물관 특별전의 안내 포스터이다. 이 특별전에 전시되었을 도자기로 적절하지 않은 것은? [1 점]



38. 다음과 같은 건물 설립을 주도한 정치 세력에 대한 설명으로 옳은 것은? [2 점]



- ① 조선 건국을 주도하였다.
- ② 왕조 초기 문물 제도 정비에 기여하였다.
- ③ 조선 전국 각지에 토지를 소유한 대지주층이었다.
- ④ 부국강병을 위해 성리학 이외의 사상도 포용하였다.
- ⑤ 도덕과 의리를 바탕으로 하는 왕도 정치를 강조하였다.

39. 다음 계획서에 따라 답사할 때에 볼 수 있는 문화 유적으로 옳지 않은 것은? [2 점]

답사 계획서

1. 지역 : 한강 유역

2. 기간 : 2009년 ○월 ○일 ~ ○월 ○일

3. 교통 : 자전거, 버스, 배

4. 목적 : 한강 유역의 문화 유적을 조사하여 이 지역의 역사적 중요성을 이해한다.

- ①

행주산성 총장사
- ②

남한산성 수어장대
- ③

단양 신라 적성비
- ④

안압지
- ⑤

중원 고구려비

40. 다음 대화의 밑줄 그은 ‘이날’에 대한 설명으로 옳지 않은 것은? [3 점]



- ① 음력 5월 5일로 수릿날이라고도 부른다.
- ② 그네뛰기, 씨름 등의 민속놀이를 즐겼다.
- ③ 귀신을 쫓는 뜻에서 창포물에 머리를 감았다.
- ④ 길쌈 대회를 열어 진 편이 술과 음식을 대접하였다.
- ⑤ 강릉에서 열리는 이날 행사는 유네스코 세계 무형유산으로 지정되었다.

41. 다음 보고서의 (가)에 들어갈 사건으로 옳은 것은? [2 점]

체험 학습 보고서

3학년 ○반 이름 △△△

• 유적지 : 종로의 우정총국
(현재의 체신 기념관)

• 유적지에서 일어난 사건 : (가)

• 사건 개요 : 개화파가 우정국 개국 축하연을 계기로 민씨 정권을 몰아내고 개혁을 시도하였으나, 3일 만에 실패로 끝났다.

• 관련 인물 : 김옥균, 박영효, 홍영식

- ① 임오군란

② 갑신정변

③ 광무개혁

④ 갑오개혁

⑤ 동학 농민 운동

42. 다음은 어느 국제 회담에서 합의된 내용이다. 이 결정에 따라 나타난 사실로 옳은 것은? [2 점]

- 한반도에 독립 국가를 건설하기 위한 임시 정부를 수립한다.
- 임시 정부 수립을 논의하기 위해 미·소 공동 위원회를 설치한다.
- 4개국이 공동으로 최고 5년간 한반도를 통치한다.

①



8.15 광복

②



38도선 설정

③



신탁 통치 반대

④



대한민국 정부 수립

⑤



6.25 전쟁 발발

43. 다음 우표에 나타나 있는 역사적 사실을 토대로 (가) ~ (라)를 시대순으로 바르게 나열한 것은? [3 점]

(가)



해상왕 장보고

(나)



문익점과 목화씨전래

(다)



김종서의 육전계획

(라)



강감찬의 귀주대첩

- ① (가) - (나) - (다) - (라)
- ② (가) - (라) - (나) - (다)
- ③ (다) - (나) - (가) - (라)
- ④ (다) - (라) - (가) - (나)
- ⑤ (라) - (나) - (가) - (다)

44. 다음 홈페이지에 소개된 유적지로 옳지 않은 것은? [2 점]




역사의 도시, 인천에 오신 것을 환영합니다.

유적지	소개
(가) 강화 고인돌	청동기 시대 족장의 권위를 상징하는 고인돌이 있다.
(나) 처인성 승첩비	몽골군 사령관인 살리타를 사살하였다.
(다) 외규장각	병인양요 때 프랑스 해군이 이 곳에 보관한 수많은 서적을 약탈해 갔다.
(라) 광성보 돈대	신미양요 때 강화 수비군이 미군과 격전을 벌인 곳이다.
(마) 중구 자유공원	6.25 전쟁 당시 인천 상륙 작전을 지휘했던 맥아더의 동상이 있다.

- ① (가) ② (나) ③ (다) ④ (라) ⑤ (마)

45. 다음은 덕수궁 안내 책자의 일부이다. 밑줄 그은 ‘조약’에 대한 설명으로 옳은 것은? [3 점]



근대사 비운의 장소, 중명전

이곳은 덕수궁 안쪽에 있는 중명전이다. 1905년, 이곳에서 일본의 강요로 우리나라의 외교권을 박탈하는 내용을 담은 조약이 체결되었다.

- ① 삼국 간섭의 결과로 체결되었다.
- ② 우리나라 최초의 근대적 조약이었다.
- ③ 청·일 전쟁이 일어나는 구실을 제공하였다.
- ④ 외국군이 우리나라에 주둔하는 계기가 되었다.
- ⑤ 고종은 이 조약의 무효를 알리기 위해 노력하였다.

46. 다음은 어느 문화재에 대한 화재 발생 보고서이다. 이 문화재로 옳은 것은? [1 점]

화재 발생 보고서

2008. 2. 10. 20:50경 화재 진화 작업중

- 1. 발생 시간 : 2008. 2. 10. 20:50 ~ 02:05
- 2. 소재지 : 서울특별시 중구
- 3. 건물 구조 : 한식 목조 와가 1동
- 4. 인명 피해 : 없음.
- 5. 화재 원인 : 조사 중
- 6. 동원 사항
 - 인원 : 360명(소방 330명, 경찰 20명, 헌전 5명, 기타 5명)
 - 차량 : 95대(펌프 22, 탱크 22, 고가 7, 굴절 8, 구조 4, 구급 3, 기타 18)

서울소방재난본부 2008. 2. 11. 현재 시간 상황보고입니다.



승례문



화성 서장대



종묘 영녕전



낙산사 의상대



대한문

47. 다음 시험지의 (가)에 들어갈 내용으로 적절하지 않은 것은? [2 점]

〈서술형 평가 문항〉

○학년 ○반 ○○○

* 왕건이 후삼국을 통일할 수 있었던 이유를 서술하시오.

답란

- (가)
- 후백제에서 왕위 계승을 둘러싼 내분이 발생하였다.

- ① 신라에 대해 화친 정책을 취하였다.
- ② 확고한 토착 세력 기반을 가지고 있었다.
- ③ 과거 제도를 실시하여 인재를 등용하였다.
- ④ 각지의 호족들과 우호적인 관계를 맺었다.
- ⑤ 백성들의 세금을 감면하여 민심을 얻었다.

48. 자료의 밑줄 그은 요구를 전면에 내세우고 전개된 사건으로 옳은 것은? [2 점]




고(故) 김수환 추기경은 1980년대 민주화 운동에 힘을 보태기 위해 노력한 것으로 잘 알려져 있다. 특히 대통령 직선제 개헌을 요구하는 시위대가 명동 성당에서 경찰과 대치하자, 경찰에게 다음과 같이 말한 것은 유명하다.

“경찰이 들어오면 맨 앞에 내가 있을 것이고, 그 뒤에 신부들, 그 뒤에 수녀들이 있을 것ियो. 학생들은 그 뒤에 있을 것ियो. 들어오려거든 나부터 밟고 가시오.”

- ① 4·19 혁명 ② 5·16 군사 정변 ③ 제주도 4·3 사건
- ④ 6월 민주 항쟁 ⑤ 5·18 민주화 운동

49. 자료와 같이 국회가 구성되었던 시기의 역사적 사실로 옳은 것은? [3 점]

제5대 국회의원 선거 정당·단체별 당선자 분포



- ① 베트남 파병이 진행되었다.
- ② 교복 자율화가 시행되었다.
- ③ 내각 책임제가 실시되었다.
- ④ 이산가족 상봉이 이루어졌다.
- ⑤ 남북 정상 회담이 개최되었다.

50. 다음 논쟁의 주제가 되는 사건으로 옳은 것은? [3 점]



- ① OECD 가입
- ② 한·일 협정 체결
- ③ 남북한 UN 동시 가입
- ④ 한·미 행정 협정 체결
- ⑤ 한·중 수교 협정 체결